

Im Zahlenbereich bis max. 1000.

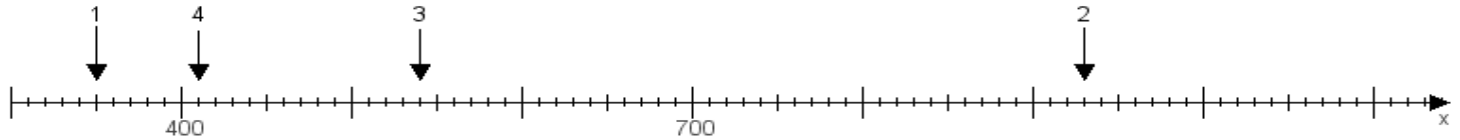
Name:

Klasse:

Datum:

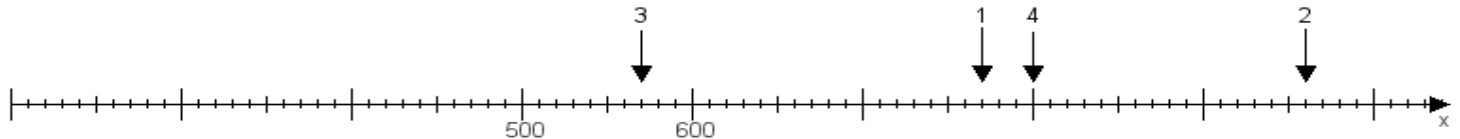
**Aufgabe 1:**

Ermittle die Werte von den Punkten 1 bis 4.



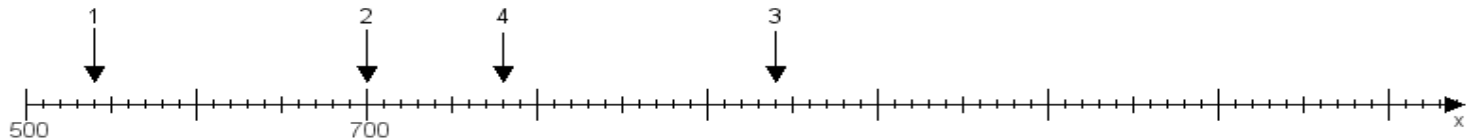
**Aufgabe 2:**

Ermittle die Werte von den Punkten 1 bis 4.



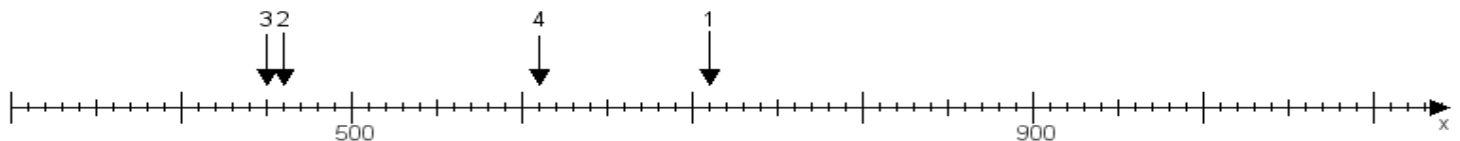
**Aufgabe 3:**

Ermittle die Werte von den Punkten 1 bis 4.



**Aufgabe 4:**

Ermittle die Werte von den Punkten 1 bis 4.



[www.das-bastelteam.de](http://www.das-bastelteam.de) -> Zahlenstrahl mit 4 Punkten. Blatt Nr.:162  
Lösungen:

Aufgabe 1: Punkt 1 = 350, Punkt 2 = 930, Punkt 3 = 540, Punkt 4 = 410,

Aufgabe 2: Punkt 1 = 770, Punkt 2 = 960, Punkt 3 = 570, Punkt 4 = 800,

Aufgabe 3: Punkt 1 = 540, Punkt 2 = 700, Punkt 3 = 940, Punkt 4 = 780,

Aufgabe 4: Punkt 1 = 710, Punkt 2 = 460, Punkt 3 = 450, Punkt 4 = 610,