

Im Zahlenbereich bis max. 1000.

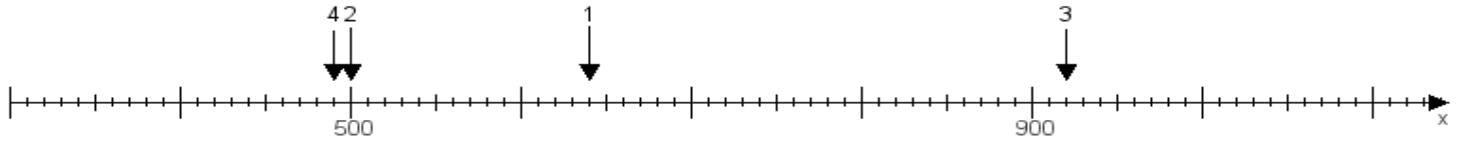
Name:

Klasse:

Datum:

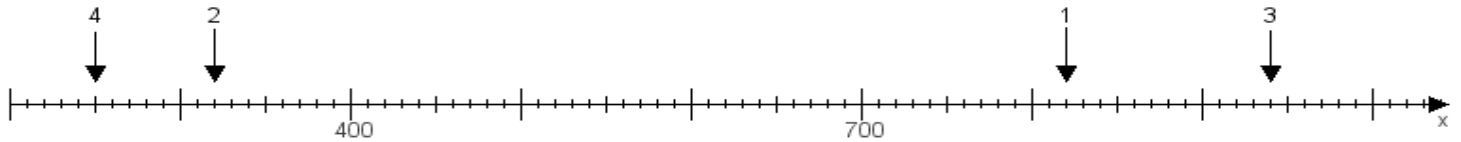
Aufgabe 1:

Ermittle die Werte von den Punkten 1 bis 4.



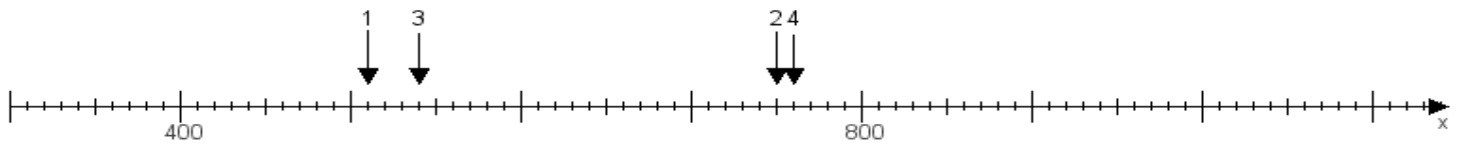
Aufgabe 2:

Ermittle die Werte von den Punkten 1 bis 4.



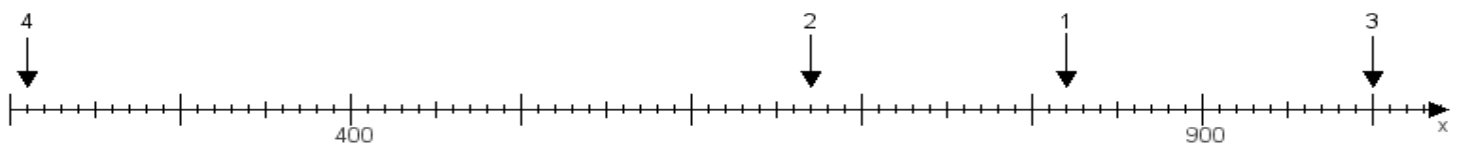
Aufgabe 3:

Ermittle die Werte von den Punkten 1 bis 4.



Aufgabe 4:

Ermittle die Werte von den Punkten 1 bis 4.



www.das-bastelteam.de -> Zahlenstrahl mit 4 Punkten. Blatt Nr.:15
Lösungen:

Aufgabe 1: Punkt 1 = 640, Punkt 2 = 500, Punkt 3 = 920, Punkt 4 = 490,

Aufgabe 2: Punkt 1 = 820, Punkt 2 = 320, Punkt 3 = 940, Punkt 4 = 250,

Aufgabe 3: Punkt 1 = 510, Punkt 2 = 750, Punkt 3 = 540, Punkt 4 = 760,

Aufgabe 4: Punkt 1 = 820, Punkt 2 = 670, Punkt 3 = 1000, Punkt 4 = 210,

www.bin-dann-weg.de -> Ferienwohnungen und Ferienhäuser.

www.kleinanzeigen-und-annoncen.de -> Kostenlose Kleinanzeigen deutschlandweit.