

Im Zahlenbereich bis max. 1000.

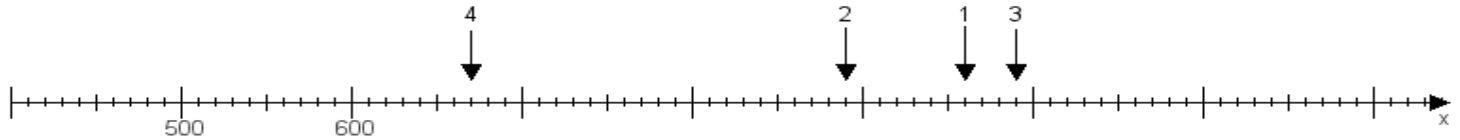
Name:

Klasse:

Datum:

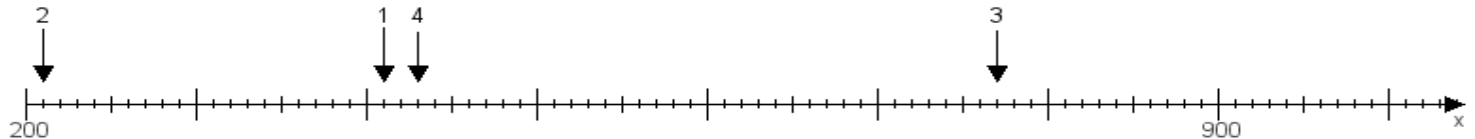
Aufgabe 1:

Ermittle die Werte von den Punkten 1 bis 4.



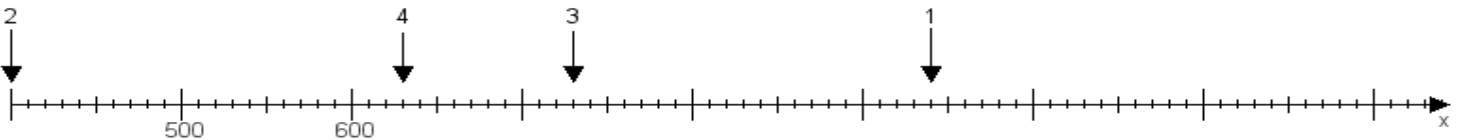
Aufgabe 2:

Ermittle die Werte von den Punkten 1 bis 4.



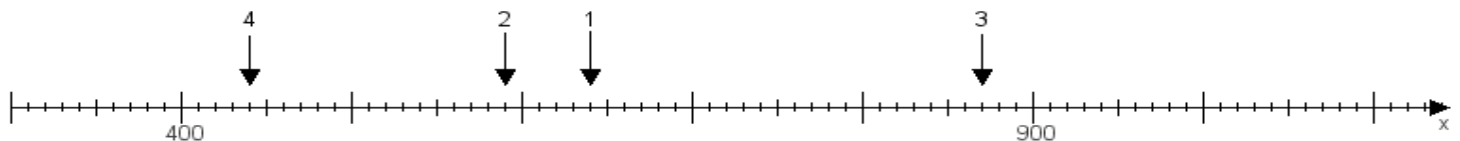
Aufgabe 3:

Ermittle die Werte von den Punkten 1 bis 4.



Aufgabe 4:

Ermittle die Werte von den Punkten 1 bis 4.



www.das-bastelteam.de -> Zahlenstrahl mit 4 Punkten. Blatt Nr.:158
Lösungen:

Aufgabe 1: Punkt 1 = 960, Punkt 2 = 890, Punkt 3 = 990, Punkt 4 = 670,

Aufgabe 2: Punkt 1 = 410, Punkt 2 = 210, Punkt 3 = 770, Punkt 4 = 430,

Aufgabe 3: Punkt 1 = 940, Punkt 2 = 400, Punkt 3 = 730, Punkt 4 = 630,

Aufgabe 4: Punkt 1 = 640, Punkt 2 = 590, Punkt 3 = 870, Punkt 4 = 440,