

Im Zahlenbereich bis max. 1000.

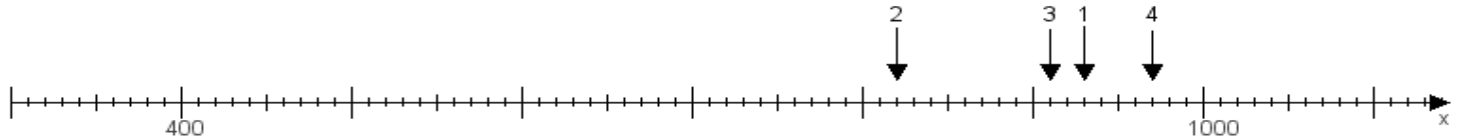
Name:

Klasse:

Datum:

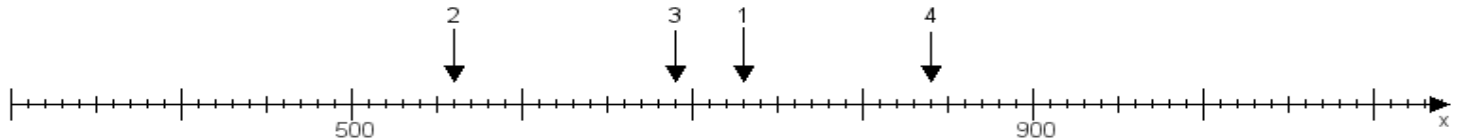
Aufgabe 1:

Ermittle die Werte von den Punkten 1 bis 4.



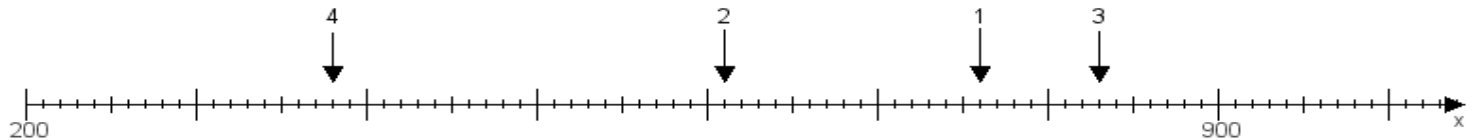
Aufgabe 2:

Ermittle die Werte von den Punkten 1 bis 4.



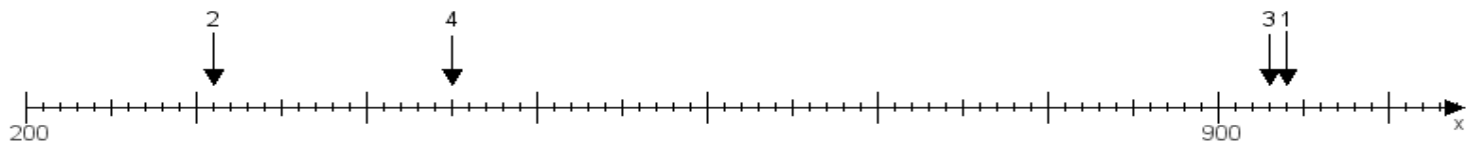
Aufgabe 3:

Ermittle die Werte von den Punkten 1 bis 4.



Aufgabe 4:

Ermittle die Werte von den Punkten 1 bis 4.



www.das-bastelteam.de -> Zahlenstrahl mit 4 Punkten. Blatt Nr.:156
Lösungen:

Aufgabe 1: Punkt 1 = 930, Punkt 2 = 820, Punkt 3 = 910, Punkt 4 = 970,

Aufgabe 2: Punkt 1 = 730, Punkt 2 = 560, Punkt 3 = 690, Punkt 4 = 840,

Aufgabe 3: Punkt 1 = 760, Punkt 2 = 610, Punkt 3 = 830, Punkt 4 = 380,

Aufgabe 4: Punkt 1 = 940, Punkt 2 = 310, Punkt 3 = 930, Punkt 4 = 450,