

Im Zahlenbereich bis max. 1000.

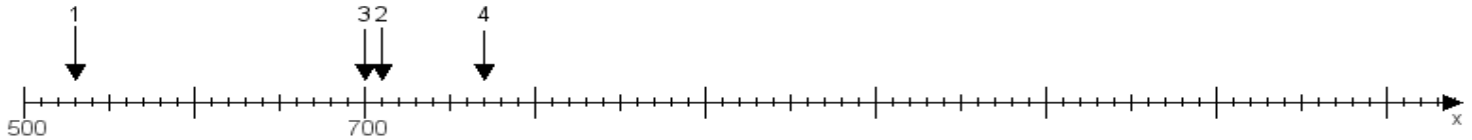
Name:

Klasse:

Datum:

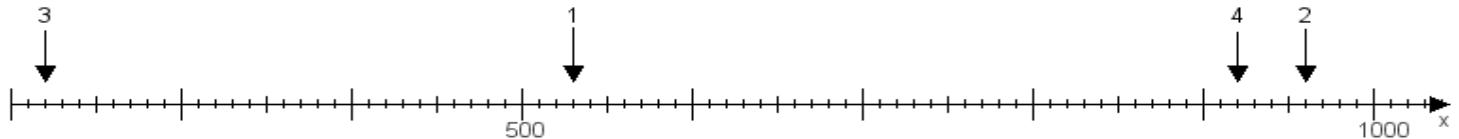
Aufgabe 1:

Ermittle die Werte von den Punkten 1 bis 4.



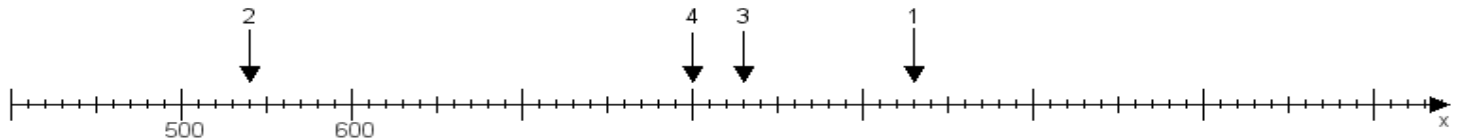
Aufgabe 2:

Ermittle die Werte von den Punkten 1 bis 4.



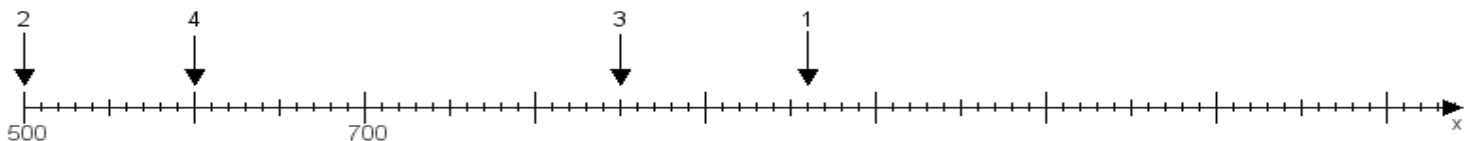
Aufgabe 3:

Ermittle die Werte von den Punkten 1 bis 4.



Aufgabe 4:

Ermittle die Werte von den Punkten 1 bis 4.



www.das-bastelteam.de -> Zahlenstrahl mit 4 Punkten. Blatt Nr.:153
Lösungen:

Aufgabe 1: Punkt 1 = 530, Punkt 2 = 710, Punkt 3 = 700, Punkt 4 = 770,

Aufgabe 2: Punkt 1 = 530, Punkt 2 = 960, Punkt 3 = 220, Punkt 4 = 920,

Aufgabe 3: Punkt 1 = 930, Punkt 2 = 540, Punkt 3 = 830, Punkt 4 = 800,

Aufgabe 4: Punkt 1 = 960, Punkt 2 = 500, Punkt 3 = 850, Punkt 4 = 600,