

Im Zahlenbereich bis max. 1000.

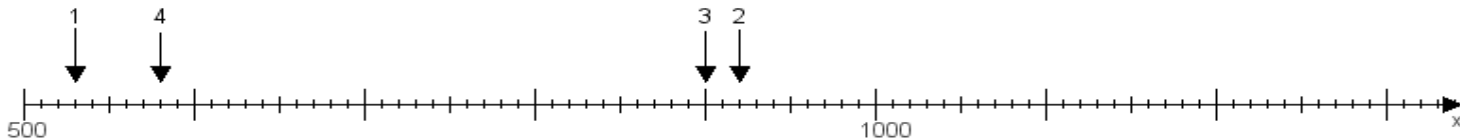
Name:

Klasse:

Datum:

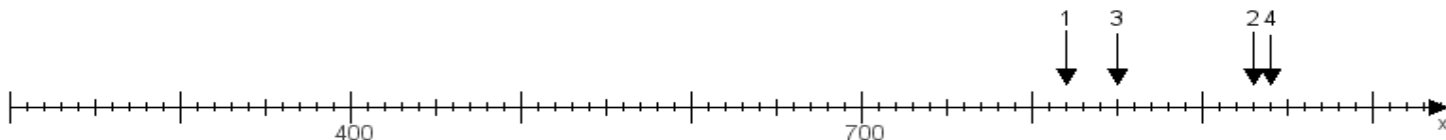
Aufgabe 1:

Ermittle die Werte von den Punkten 1 bis 4.



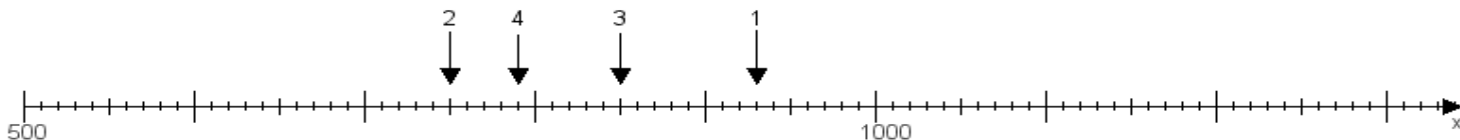
Aufgabe 2:

Ermittle die Werte von den Punkten 1 bis 4.



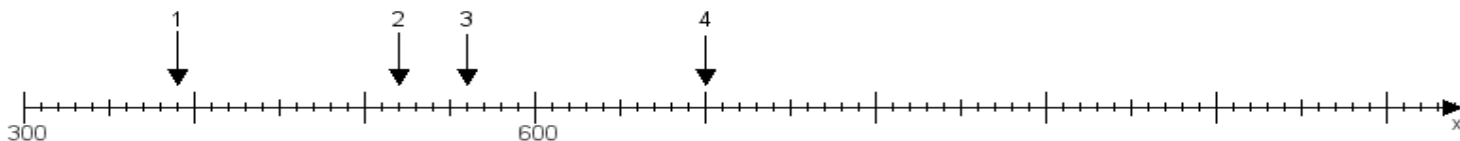
Aufgabe 3:

Ermittle die Werte von den Punkten 1 bis 4.



Aufgabe 4:

Ermittle die Werte von den Punkten 1 bis 4.



www.das-bastelteam.de -> Zahlenstrahl mit 4 Punkten. Blatt Nr.:150
Lösungen:

Aufgabe 1: Punkt 1 = 530, Punkt 2 = 920, Punkt 3 = 900, Punkt 4 = 580,

Aufgabe 2: Punkt 1 = 820, Punkt 2 = 930, Punkt 3 = 850, Punkt 4 = 940,

Aufgabe 3: Punkt 1 = 930, Punkt 2 = 750, Punkt 3 = 850, Punkt 4 = 790,

Aufgabe 4: Punkt 1 = 390, Punkt 2 = 520, Punkt 3 = 560, Punkt 4 = 700,