

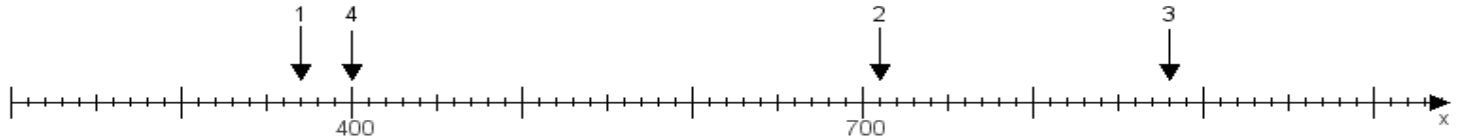
Name:

Klasse:

Datum:

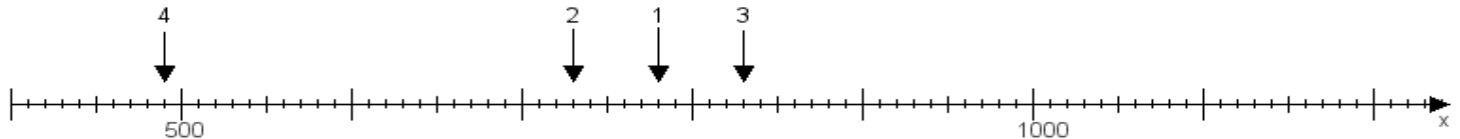
**Aufgabe 1:**

Ermittle die Werte von den Punkten 1 bis 4.



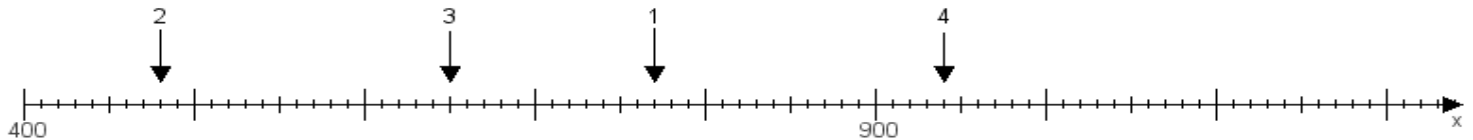
**Aufgabe 2:**

Ermittle die Werte von den Punkten 1 bis 4.



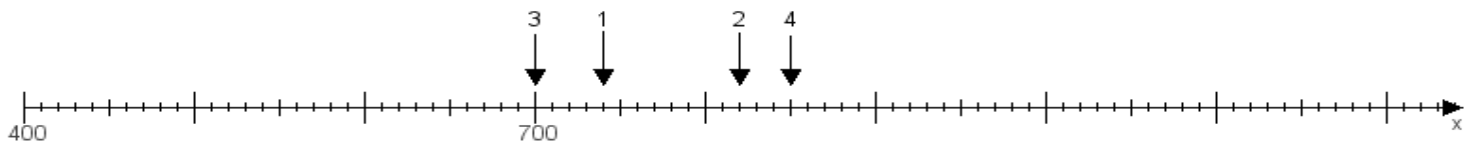
**Aufgabe 3:**

Ermittle die Werte von den Punkten 1 bis 4.



**Aufgabe 4:**

Ermittle die Werte von den Punkten 1 bis 4.



[www.das-bastelteam.de](http://www.das-bastelteam.de) -> Zahlenstrahl mit 4 Punkten. Blatt Nr.:149  
Lösungen:

Aufgabe 1: Punkt 1 = 370, Punkt 2 = 710, Punkt 3 = 880, Punkt 4 = 400,

Aufgabe 2: Punkt 1 = 780, Punkt 2 = 730, Punkt 3 = 830, Punkt 4 = 490,

Aufgabe 3: Punkt 1 = 770, Punkt 2 = 480, Punkt 3 = 650, Punkt 4 = 940,

Aufgabe 4: Punkt 1 = 740, Punkt 2 = 820, Punkt 3 = 700, Punkt 4 = 850,