

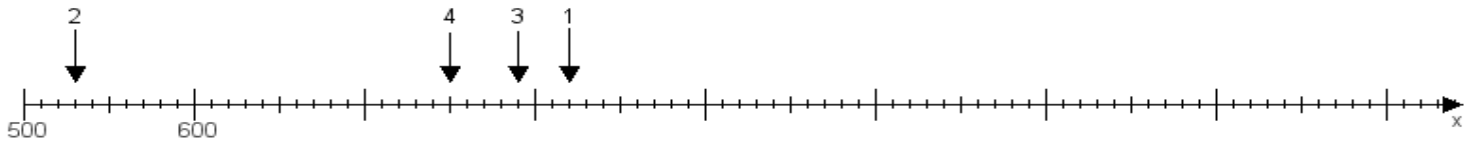
Name:

Klasse:

Datum:

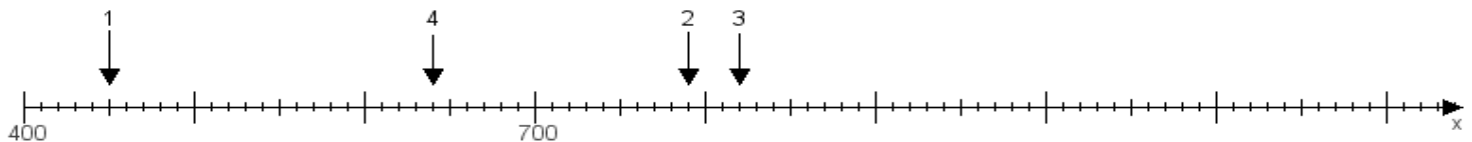
Aufgabe 1:

Ermittle die Werte von den Punkten 1 bis 4.



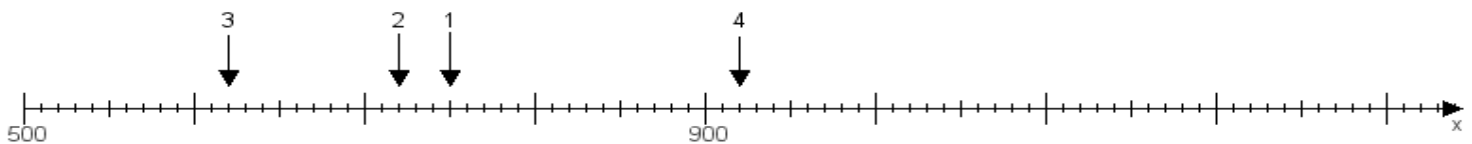
Aufgabe 2:

Ermittle die Werte von den Punkten 1 bis 4.



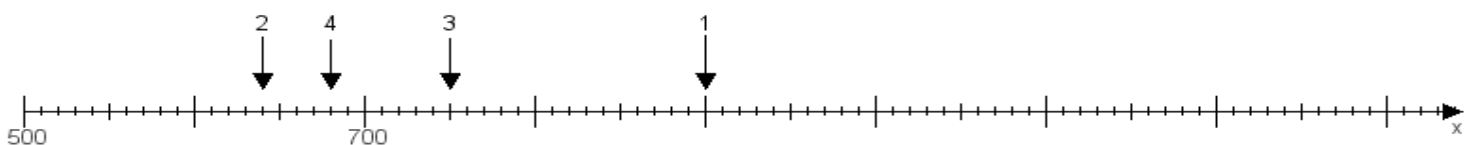
Aufgabe 3:

Ermittle die Werte von den Punkten 1 bis 4.



Aufgabe 4:

Ermittle die Werte von den Punkten 1 bis 4.



www.das-bastelteam.de -> Zahlenstrahl mit 4 Punkten. Blatt Nr.:147
Lösungen:

Aufgabe 1: Punkt 1 = 820, Punkt 2 = 530, Punkt 3 = 790, Punkt 4 = 750,

Aufgabe 2: Punkt 1 = 450, Punkt 2 = 790, Punkt 3 = 820, Punkt 4 = 640,

Aufgabe 3: Punkt 1 = 750, Punkt 2 = 720, Punkt 3 = 620, Punkt 4 = 920,

Aufgabe 4: Punkt 1 = 900, Punkt 2 = 640, Punkt 3 = 750, Punkt 4 = 680,