

Im Zahlenbereich bis max. 1000.

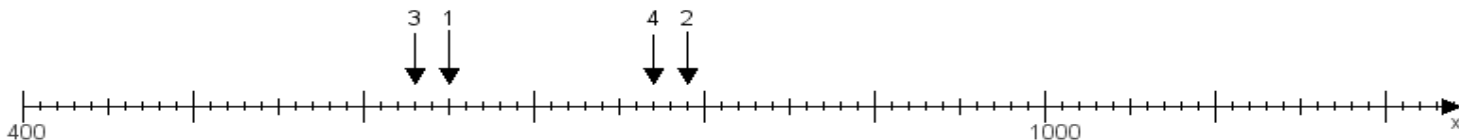
Name:

Klasse:

Datum:

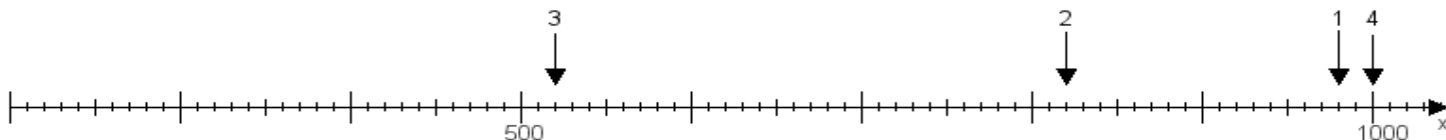
Aufgabe 1:

Ermittle die Werte von den Punkten 1 bis 4.



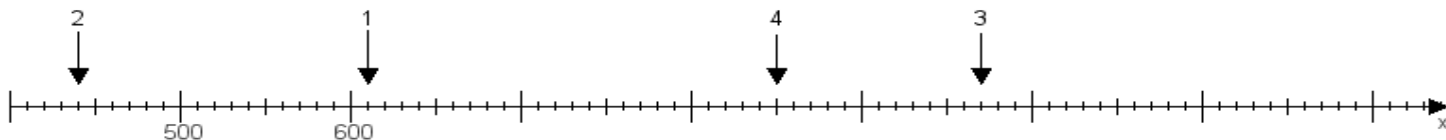
Aufgabe 2:

Ermittle die Werte von den Punkten 1 bis 4.



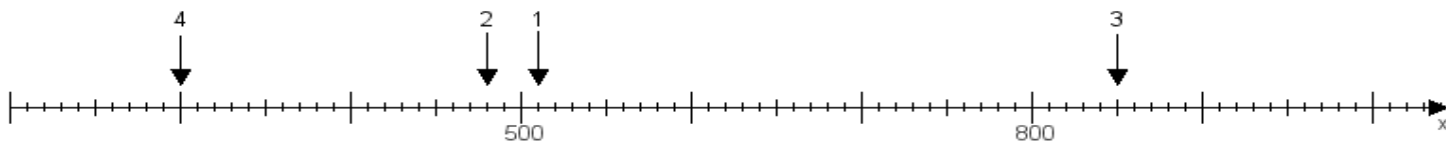
Aufgabe 3:

Ermittle die Werte von den Punkten 1 bis 4.



Aufgabe 4:

Ermittle die Werte von den Punkten 1 bis 4.



www.das-bastelteam.de -> Zahlenstrahl mit 4 Punkten. Blatt Nr.:144
Lösungen:

Aufgabe 1: Punkt 1 = 650, Punkt 2 = 790, Punkt 3 = 630, Punkt 4 = 770,

Aufgabe 2: Punkt 1 = 980, Punkt 2 = 820, Punkt 3 = 520, Punkt 4 = 1000,

Aufgabe 3: Punkt 1 = 610, Punkt 2 = 440, Punkt 3 = 970, Punkt 4 = 850,

Aufgabe 4: Punkt 1 = 510, Punkt 2 = 480, Punkt 3 = 850, Punkt 4 = 300,