

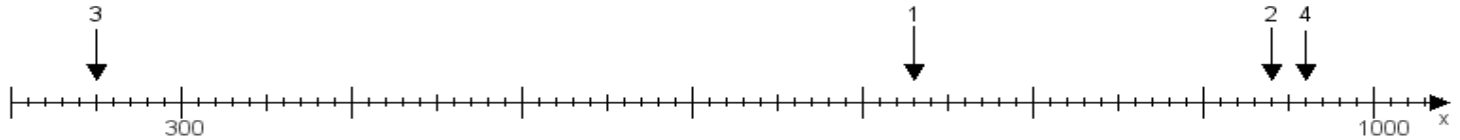
Name:

Klasse:

Datum:

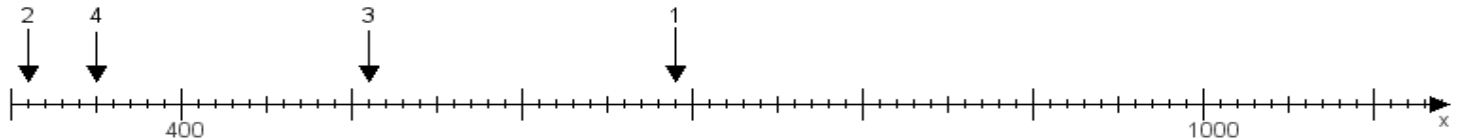
Aufgabe 1:

Ermittle die Werte von den Punkten 1 bis 4.



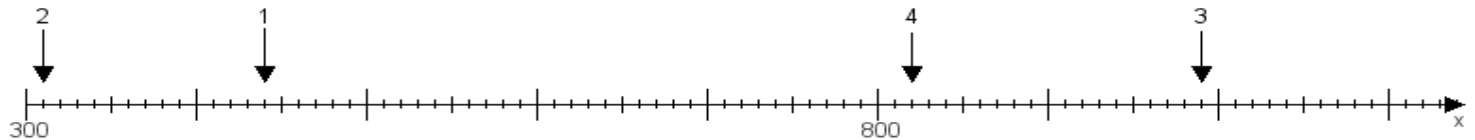
Aufgabe 2:

Ermittle die Werte von den Punkten 1 bis 4.



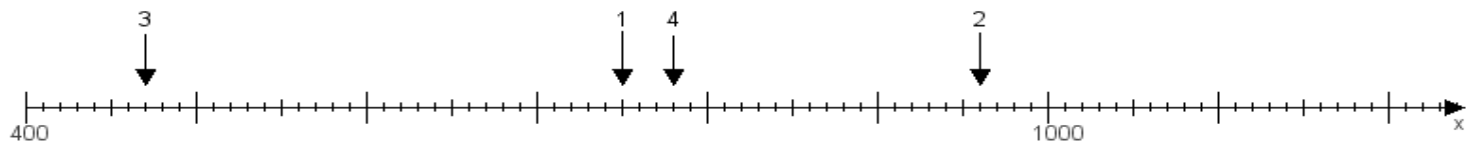
Aufgabe 3:

Ermittle die Werte von den Punkten 1 bis 4.



Aufgabe 4:

Ermittle die Werte von den Punkten 1 bis 4.



www.das-bastelteam.de -> Zahlenstrahl mit 4 Punkten. Blatt Nr.:143
Lösungen:

Aufgabe 1: Punkt 1 = 730, Punkt 2 = 940, Punkt 3 = 250, Punkt 4 = 960,

Aufgabe 2: Punkt 1 = 690, Punkt 2 = 310, Punkt 3 = 510, Punkt 4 = 350,

Aufgabe 3: Punkt 1 = 440, Punkt 2 = 310, Punkt 3 = 990, Punkt 4 = 820,

Aufgabe 4: Punkt 1 = 750, Punkt 2 = 960, Punkt 3 = 470, Punkt 4 = 780,