

Im Zahlenbereich bis max. 1000.

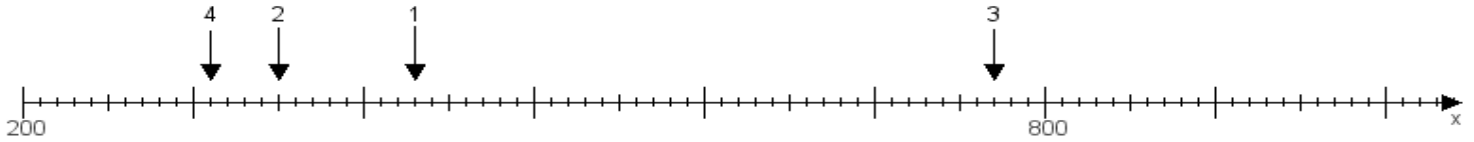
Name:

Klasse:

Datum:

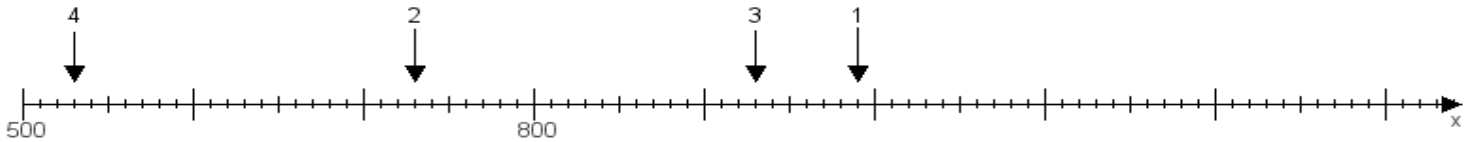
Aufgabe 1:

Ermittle die Werte von den Punkten 1 bis 4.



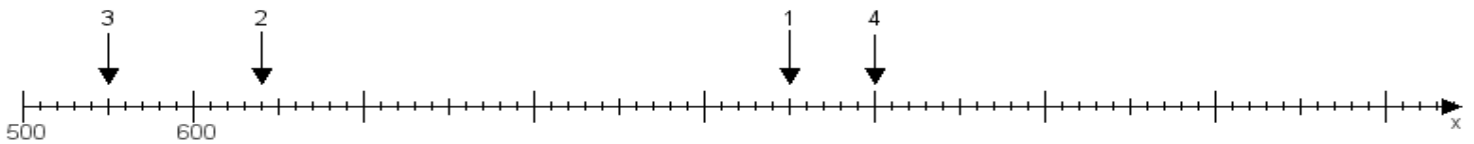
Aufgabe 2:

Ermittle die Werte von den Punkten 1 bis 4.



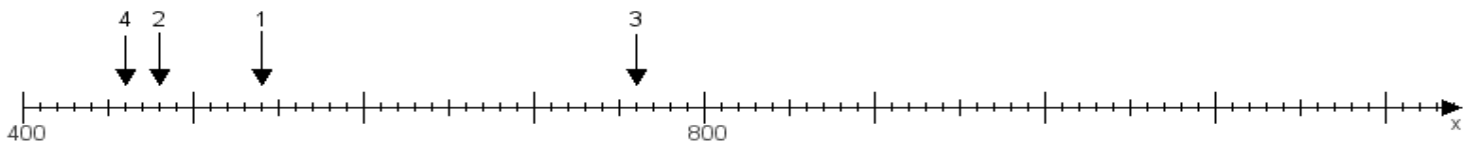
Aufgabe 3:

Ermittle die Werte von den Punkten 1 bis 4.



Aufgabe 4:

Ermittle die Werte von den Punkten 1 bis 4.



www.das-bastelteam.de -> Zahlenstrahl mit 4 Punkten. Blatt Nr.:142
Lösungen:

Aufgabe 1: Punkt 1 = 430, Punkt 2 = 350, Punkt 3 = 770, Punkt 4 = 310,

Aufgabe 2: Punkt 1 = 990, Punkt 2 = 730, Punkt 3 = 930, Punkt 4 = 530,

Aufgabe 3: Punkt 1 = 950, Punkt 2 = 640, Punkt 3 = 550, Punkt 4 = 1000,

Aufgabe 4: Punkt 1 = 540, Punkt 2 = 480, Punkt 3 = 760, Punkt 4 = 460,