

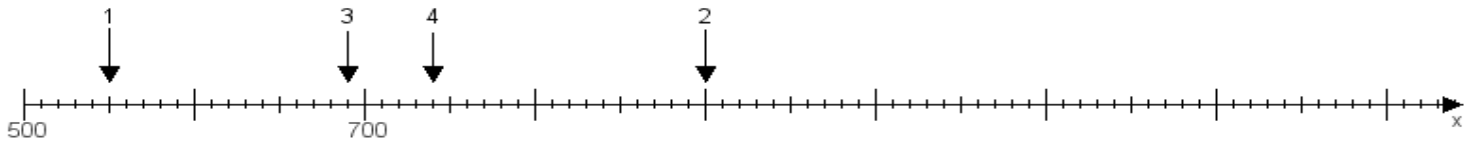
Name:

Klasse:

Datum:

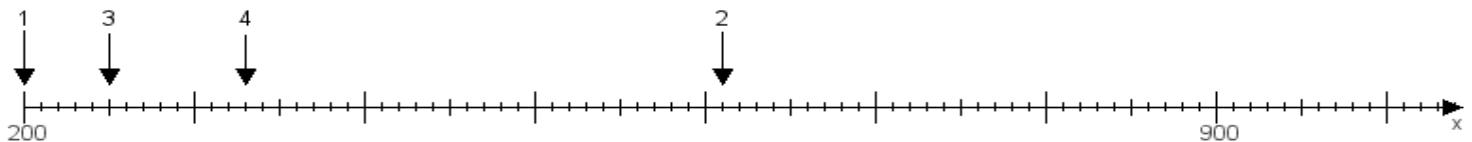
**Aufgabe 1:**

Ermittle die Werte von den Punkten 1 bis 4.



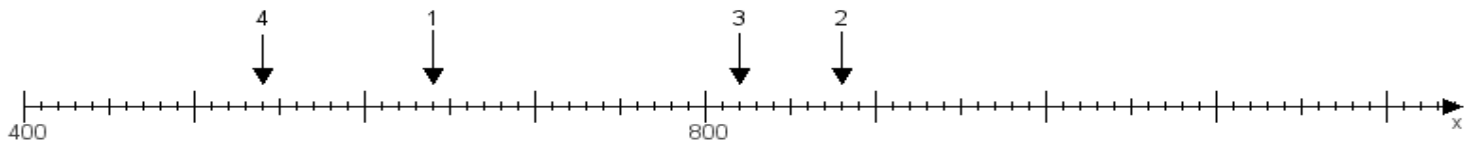
**Aufgabe 2:**

Ermittle die Werte von den Punkten 1 bis 4.



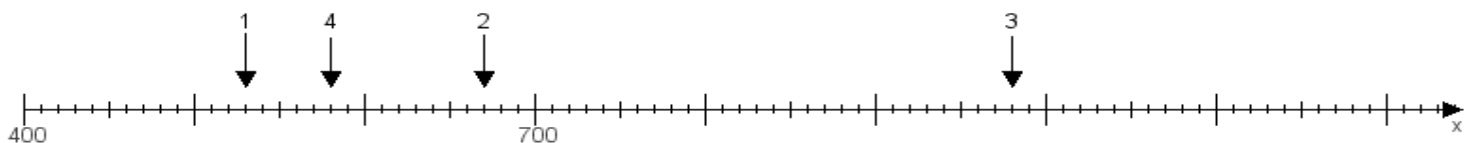
**Aufgabe 3:**

Ermittle die Werte von den Punkten 1 bis 4.



**Aufgabe 4:**

Ermittle die Werte von den Punkten 1 bis 4.



[www.das-bastelteam.de](http://www.das-bastelteam.de) -> Zahlenstrahl mit 4 Punkten. Blatt Nr.:141  
Lösungen:

Aufgabe 1: Punkt 1 = 550, Punkt 2 = 900, Punkt 3 = 690, Punkt 4 = 740,

Aufgabe 2: Punkt 1 = 200, Punkt 2 = 610, Punkt 3 = 250, Punkt 4 = 330,

Aufgabe 3: Punkt 1 = 640, Punkt 2 = 880, Punkt 3 = 820, Punkt 4 = 540,

Aufgabe 4: Punkt 1 = 530, Punkt 2 = 670, Punkt 3 = 980, Punkt 4 = 580,