

Im Zahlenbereich bis max. 1000.

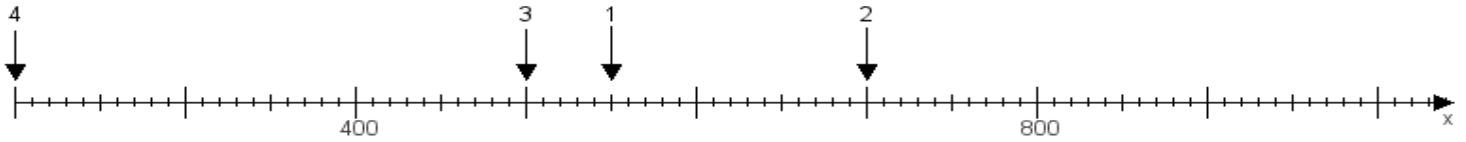
Name:

Klasse:

Datum:

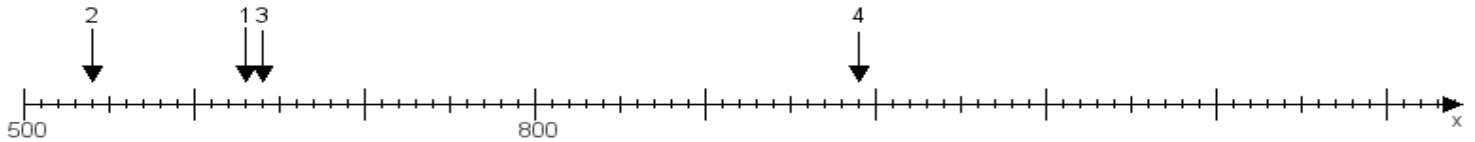
Aufgabe 1:

Ermittle die Werte von den Punkten 1 bis 4.



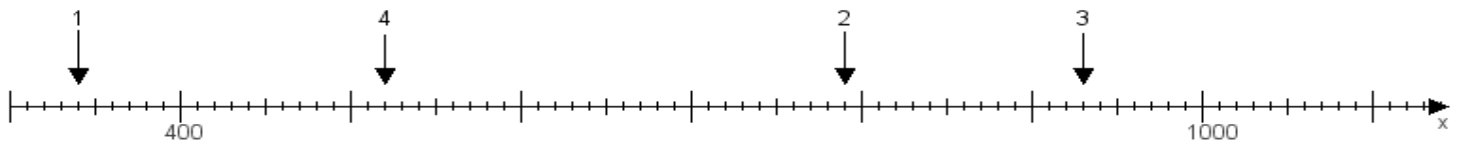
Aufgabe 2:

Ermittle die Werte von den Punkten 1 bis 4.



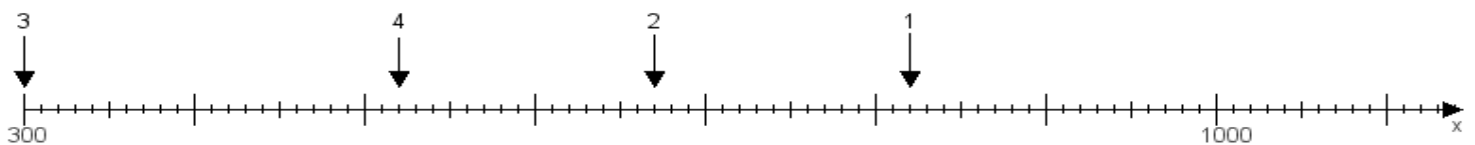
Aufgabe 3:

Ermittle die Werte von den Punkten 1 bis 4.



Aufgabe 4:

Ermittle die Werte von den Punkten 1 bis 4.



www.das-bastelteam.de -> Zahlenstrahl mit 4 Punkten. Blatt Nr.:138
Lösungen:

Aufgabe 1: Punkt 1 = 550, Punkt 2 = 700, Punkt 3 = 500, Punkt 4 = 200,

Aufgabe 2: Punkt 1 = 630, Punkt 2 = 540, Punkt 3 = 640, Punkt 4 = 990,

Aufgabe 3: Punkt 1 = 340, Punkt 2 = 790, Punkt 3 = 930, Punkt 4 = 520,

Aufgabe 4: Punkt 1 = 820, Punkt 2 = 670, Punkt 3 = 300, Punkt 4 = 520,