

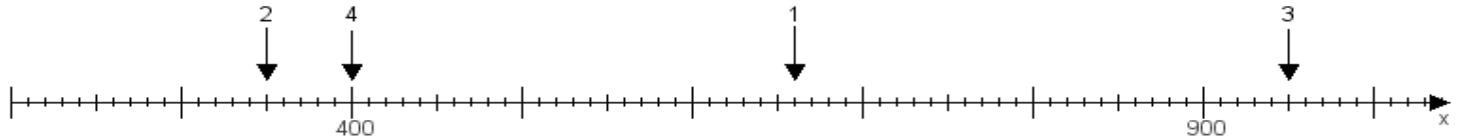
Name:

Klasse:

Datum:

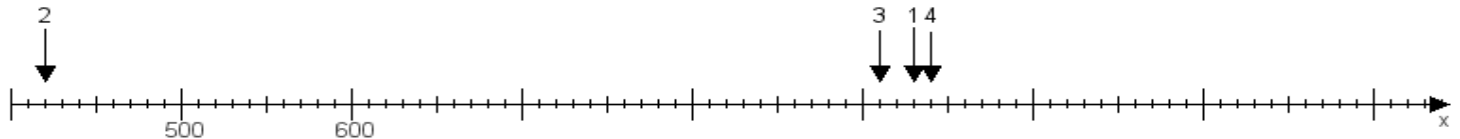
Aufgabe 1:

Ermittle die Werte von den Punkten 1 bis 4.



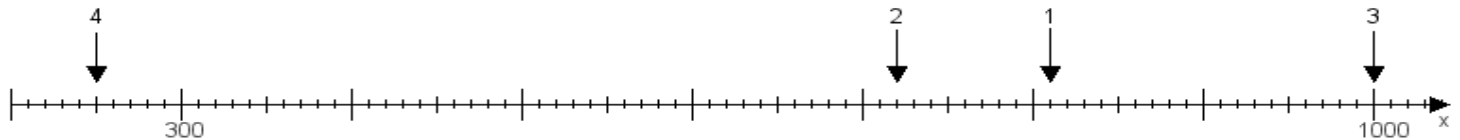
Aufgabe 2:

Ermittle die Werte von den Punkten 1 bis 4.



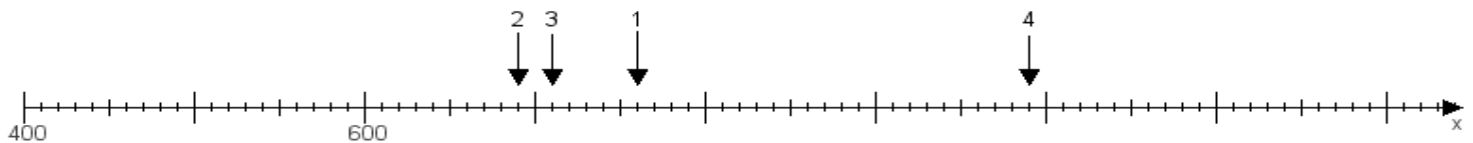
Aufgabe 3:

Ermittle die Werte von den Punkten 1 bis 4.



Aufgabe 4:

Ermittle die Werte von den Punkten 1 bis 4.



www.das-bastelteam.de -> Zahlenstrahl mit 4 Punkten. Blatt Nr.:137
Lösungen:

Aufgabe 1: Punkt 1 = 660, Punkt 2 = 350, Punkt 3 = 950, Punkt 4 = 400,

Aufgabe 2: Punkt 1 = 930, Punkt 2 = 420, Punkt 3 = 910, Punkt 4 = 940,

Aufgabe 3: Punkt 1 = 810, Punkt 2 = 720, Punkt 3 = 1000, Punkt 4 = 250,

Aufgabe 4: Punkt 1 = 760, Punkt 2 = 690, Punkt 3 = 710, Punkt 4 = 990,