

Im Zahlenbereich bis max. 1000.

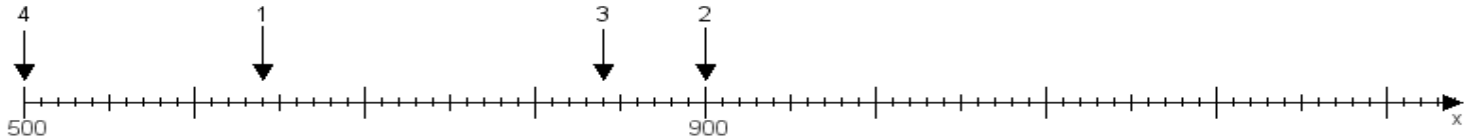
Name:

Klasse:

Datum:

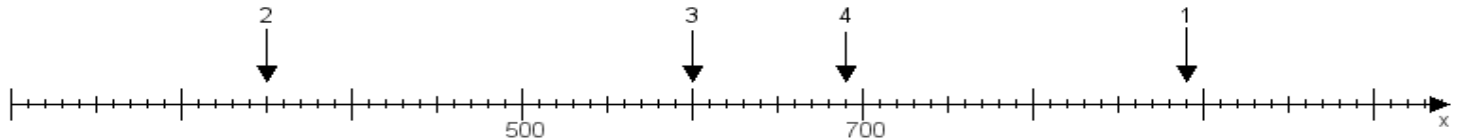
Aufgabe 1:

Ermittle die Werte von den Punkten 1 bis 4.



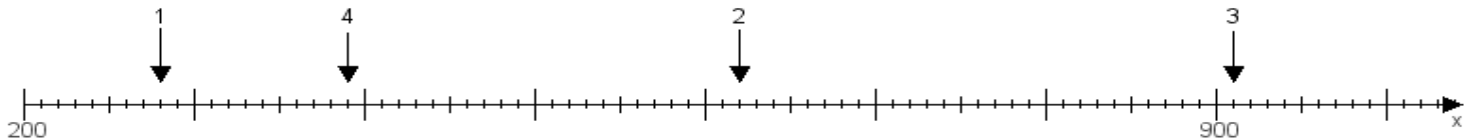
Aufgabe 2:

Ermittle die Werte von den Punkten 1 bis 4.



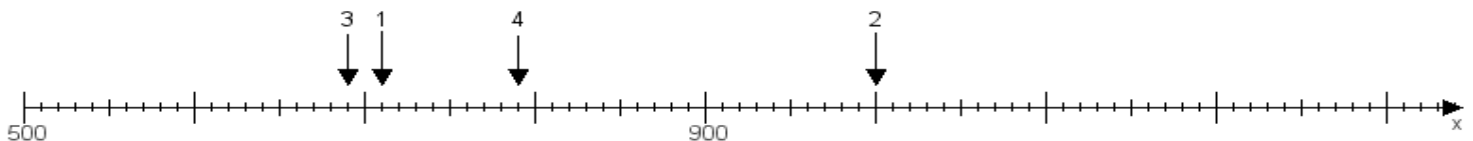
Aufgabe 3:

Ermittle die Werte von den Punkten 1 bis 4.



Aufgabe 4:

Ermittle die Werte von den Punkten 1 bis 4.



www.das-bastelteam.de -> Zahlenstrahl mit 4 Punkten. Blatt Nr.:136
Lösungen:

Aufgabe 1: Punkt 1 = 640, Punkt 2 = 900, Punkt 3 = 840, Punkt 4 = 500,

Aufgabe 2: Punkt 1 = 890, Punkt 2 = 350, Punkt 3 = 600, Punkt 4 = 690,

Aufgabe 3: Punkt 1 = 280, Punkt 2 = 620, Punkt 3 = 910, Punkt 4 = 390,

Aufgabe 4: Punkt 1 = 710, Punkt 2 = 1000, Punkt 3 = 690, Punkt 4 = 790,