

Im Zahlenbereich bis max. 1000.

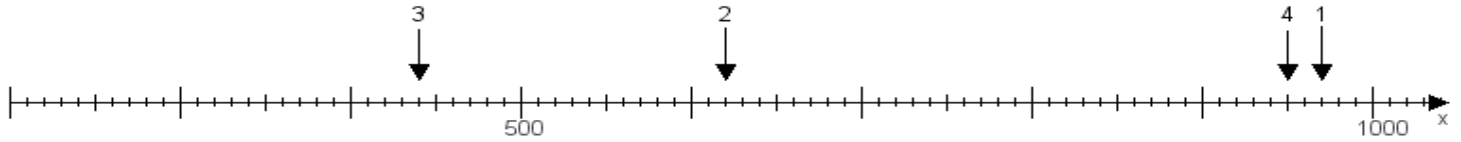
Name:

Klasse:

Datum:

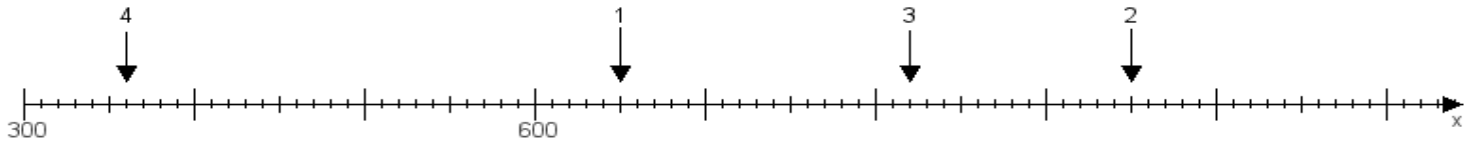
**Aufgabe 1:**

Ermittle die Werte von den Punkten 1 bis 4.



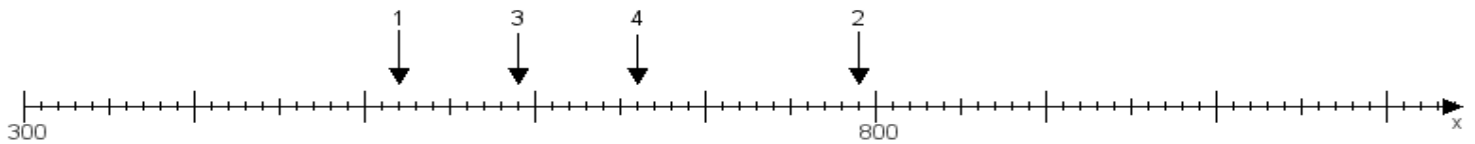
**Aufgabe 2:**

Ermittle die Werte von den Punkten 1 bis 4.



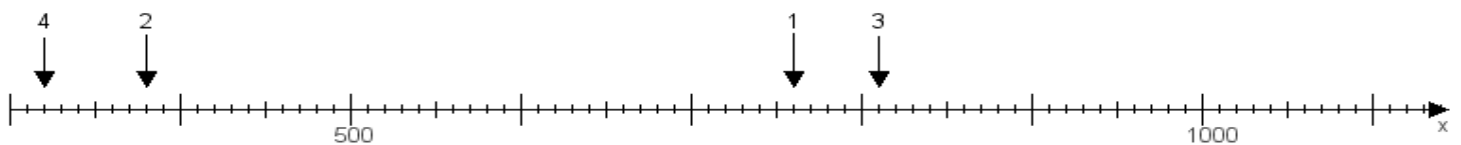
**Aufgabe 3:**

Ermittle die Werte von den Punkten 1 bis 4.



**Aufgabe 4:**

Ermittle die Werte von den Punkten 1 bis 4.



[www.das-bastelteam.de](http://www.das-bastelteam.de) -> Zahlenstrahl mit 4 Punkten. Blatt Nr.:134  
Lösungen:

Aufgabe 1: Punkt 1 = 970, Punkt 2 = 620, Punkt 3 = 440, Punkt 4 = 950,

Aufgabe 2: Punkt 1 = 650, Punkt 2 = 950, Punkt 3 = 820, Punkt 4 = 360,

Aufgabe 3: Punkt 1 = 520, Punkt 2 = 790, Punkt 3 = 590, Punkt 4 = 660,

Aufgabe 4: Punkt 1 = 760, Punkt 2 = 380, Punkt 3 = 810, Punkt 4 = 320,