

Im Zahlenbereich bis max. 1000.

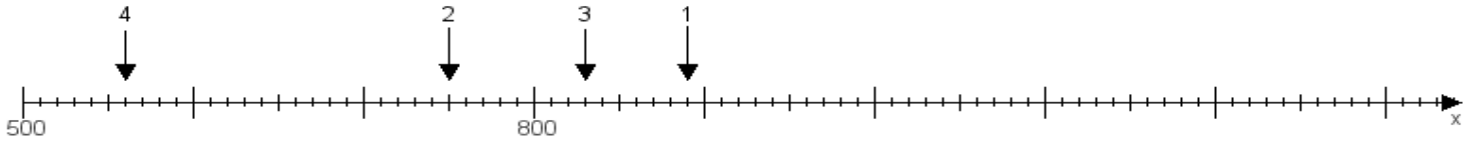
Name:

Klasse:

Datum:

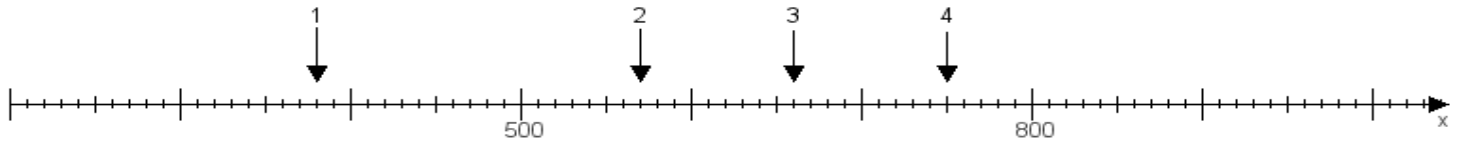
Aufgabe 1:

Ermittle die Werte von den Punkten 1 bis 4.



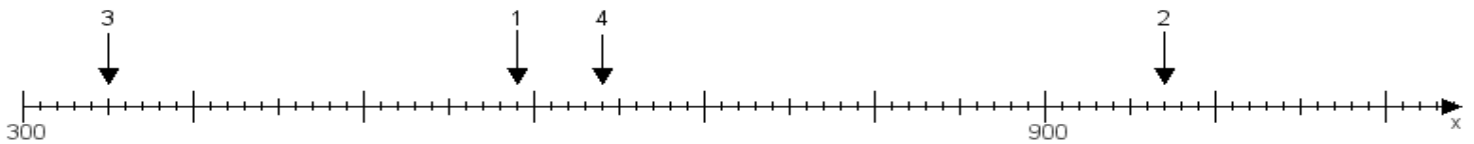
Aufgabe 2:

Ermittle die Werte von den Punkten 1 bis 4.



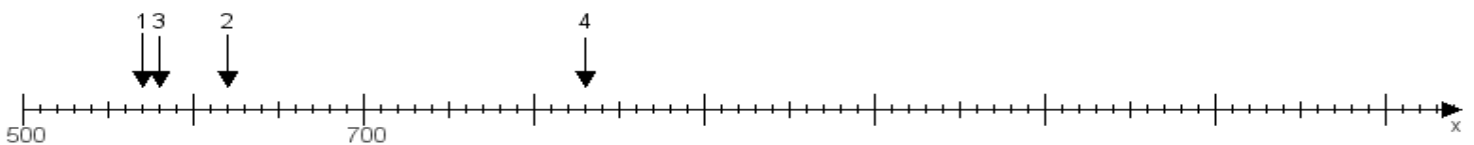
Aufgabe 3:

Ermittle die Werte von den Punkten 1 bis 4.



Aufgabe 4:

Ermittle die Werte von den Punkten 1 bis 4.



www.das-bastelteam.de -> Zahlenstrahl mit 4 Punkten. Blatt Nr.:133
Lösungen:

Aufgabe 1: Punkt 1 = 890, Punkt 2 = 750, Punkt 3 = 830, Punkt 4 = 560,

Aufgabe 2: Punkt 1 = 380, Punkt 2 = 570, Punkt 3 = 660, Punkt 4 = 750,

Aufgabe 3: Punkt 1 = 590, Punkt 2 = 970, Punkt 3 = 350, Punkt 4 = 640,

Aufgabe 4: Punkt 1 = 570, Punkt 2 = 620, Punkt 3 = 580, Punkt 4 = 830,