

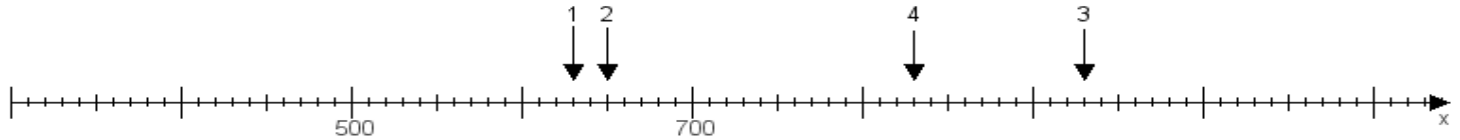
Name:

Klasse:

Datum:

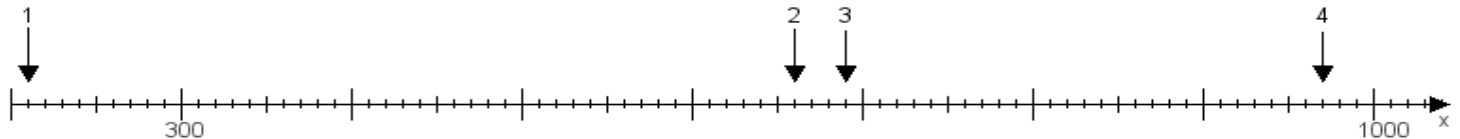
**Aufgabe 1:**

Ermittle die Werte von den Punkten 1 bis 4.



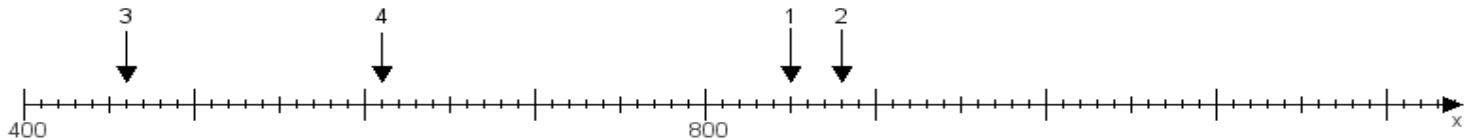
**Aufgabe 2:**

Ermittle die Werte von den Punkten 1 bis 4.



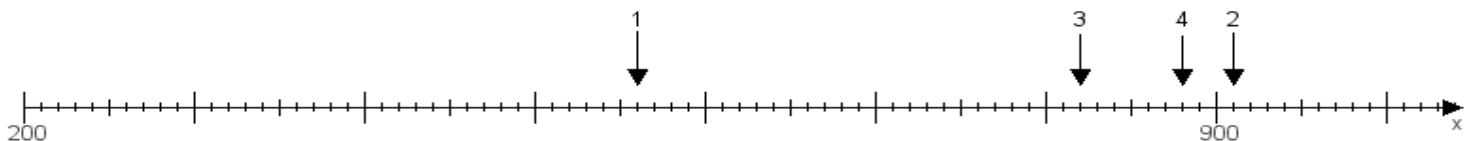
**Aufgabe 3:**

Ermittle die Werte von den Punkten 1 bis 4.



**Aufgabe 4:**

Ermittle die Werte von den Punkten 1 bis 4.



[www.das-bastelteam.de](http://www.das-bastelteam.de) -> Zahlenstrahl mit 4 Punkten. Blatt Nr.:131  
Lösungen:

Aufgabe 1: Punkt 1 = 630, Punkt 2 = 650, Punkt 3 = 930, Punkt 4 = 830,

Aufgabe 2: Punkt 1 = 210, Punkt 2 = 660, Punkt 3 = 690, Punkt 4 = 970,

Aufgabe 3: Punkt 1 = 850, Punkt 2 = 880, Punkt 3 = 460, Punkt 4 = 610,

Aufgabe 4: Punkt 1 = 560, Punkt 2 = 910, Punkt 3 = 820, Punkt 4 = 880,