

Im Zahlenbereich bis max. 1000.

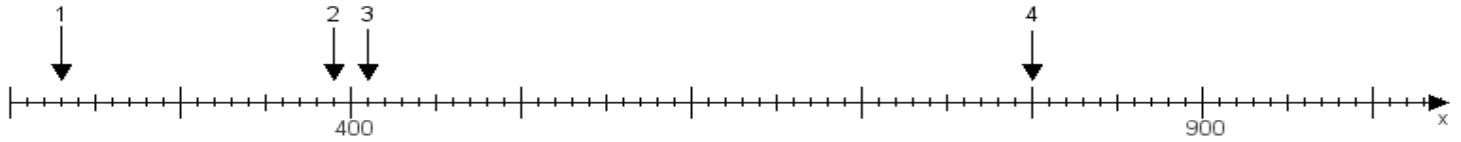
Name:

Klasse:

Datum:

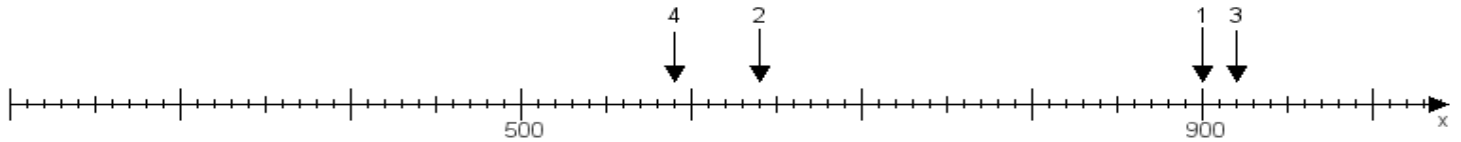
Aufgabe 1:

Ermittle die Werte von den Punkten 1 bis 4.



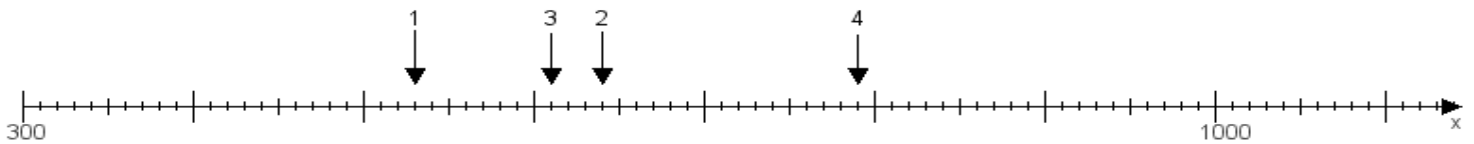
Aufgabe 2:

Ermittle die Werte von den Punkten 1 bis 4.



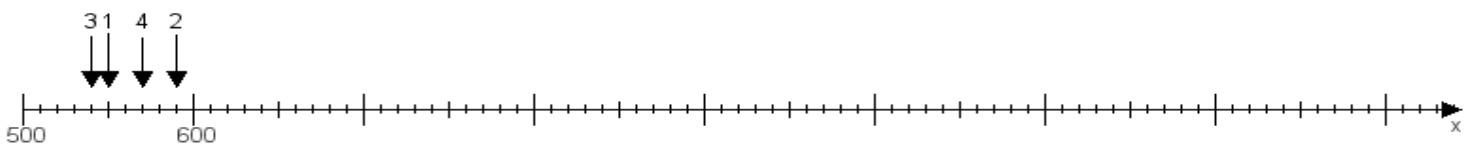
Aufgabe 3:

Ermittle die Werte von den Punkten 1 bis 4.



Aufgabe 4:

Ermittle die Werte von den Punkten 1 bis 4.



www.das-bastelteam.de -> Zahlenstrahl mit 4 Punkten. Blatt Nr.:129
Lösungen:

Aufgabe 1: Punkt 1 = 230, Punkt 2 = 390, Punkt 3 = 410, Punkt 4 = 800,

Aufgabe 2: Punkt 1 = 900, Punkt 2 = 640, Punkt 3 = 920, Punkt 4 = 590,

Aufgabe 3: Punkt 1 = 530, Punkt 2 = 640, Punkt 3 = 610, Punkt 4 = 790,

Aufgabe 4: Punkt 1 = 550, Punkt 2 = 590, Punkt 3 = 540, Punkt 4 = 570,

www.bin-dann-weg.de -> Ferienwohnungen und Ferienhäuser.

www.kleinanzeigen-und-annoncen.de -> Kostenlose Kleinanzeigen deutschlandweit.