

Im Zahlenbereich bis max. 1000.

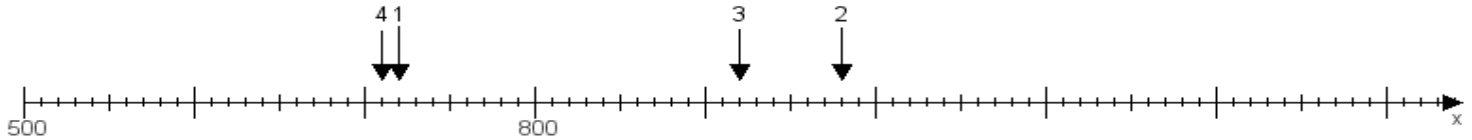
Name:

Klasse:

Datum:

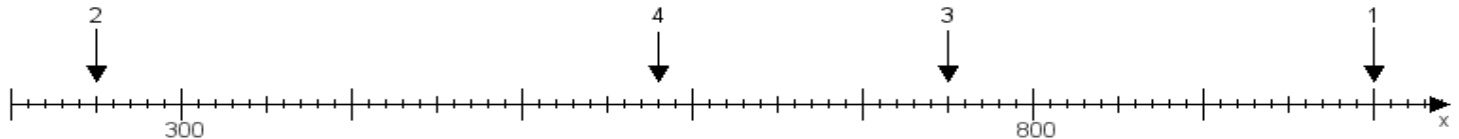
Aufgabe 1:

Ermittle die Werte von den Punkten 1 bis 4.



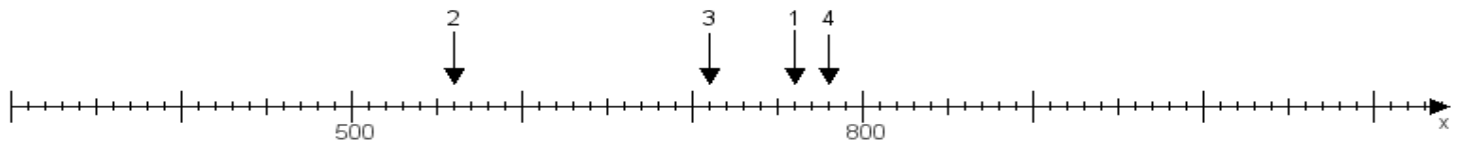
Aufgabe 2:

Ermittle die Werte von den Punkten 1 bis 4.



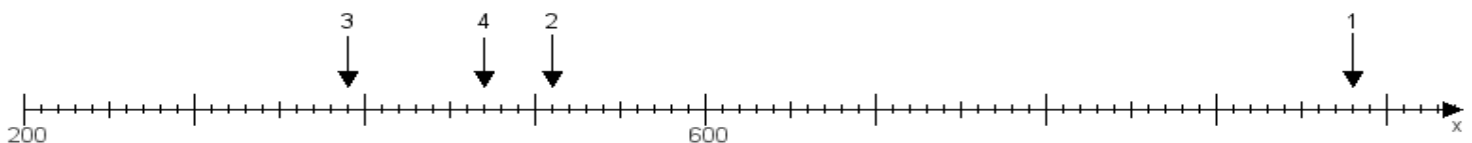
Aufgabe 3:

Ermittle die Werte von den Punkten 1 bis 4.



Aufgabe 4:

Ermittle die Werte von den Punkten 1 bis 4.



www.das-bastelteam.de -> Zahlenstrahl mit 4 Punkten. Blatt Nr.:128
Lösungen:

Aufgabe 1: Punkt 1 = 720, Punkt 2 = 980, Punkt 3 = 920, Punkt 4 = 710,

Aufgabe 2: Punkt 1 = 1000, Punkt 2 = 250, Punkt 3 = 750, Punkt 4 = 580,

Aufgabe 3: Punkt 1 = 760, Punkt 2 = 560, Punkt 3 = 710, Punkt 4 = 780,

Aufgabe 4: Punkt 1 = 980, Punkt 2 = 510, Punkt 3 = 390, Punkt 4 = 470,