

Im Zahlenbereich bis max. 1000.

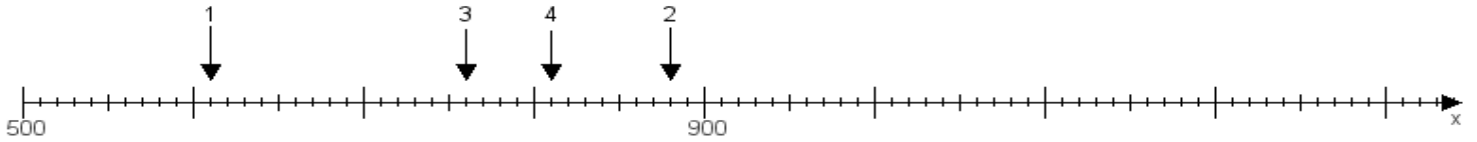
Name:

Klasse:

Datum:

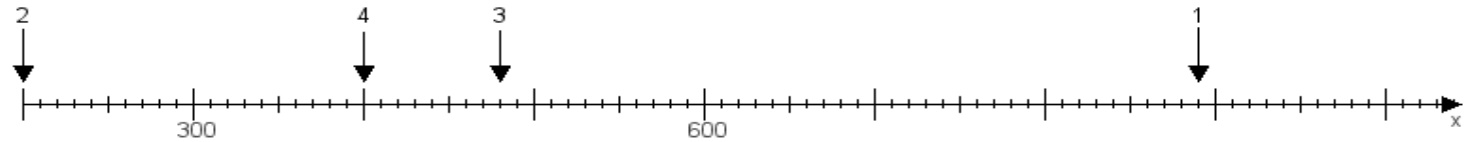
Aufgabe 1:

Ermittle die Werte von den Punkten 1 bis 4.



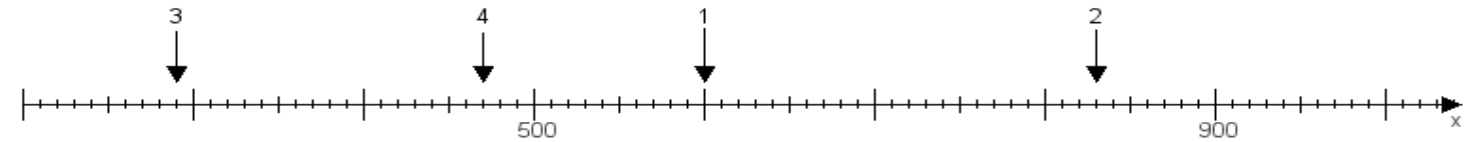
Aufgabe 2:

Ermittle die Werte von den Punkten 1 bis 4.



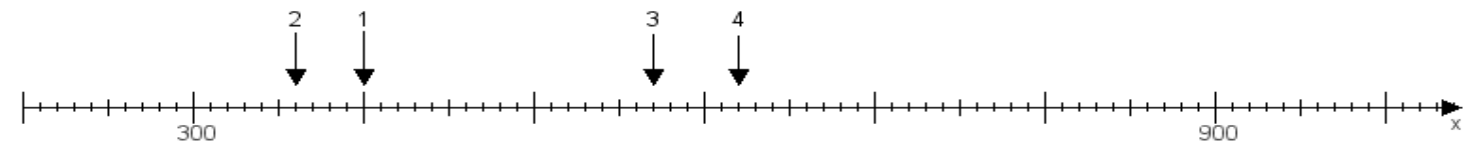
Aufgabe 3:

Ermittle die Werte von den Punkten 1 bis 4.



Aufgabe 4:

Ermittle die Werte von den Punkten 1 bis 4.



www.das-bastelteam.de -> Zahlenstrahl mit 4 Punkten. Blatt Nr.:127
Lösungen:

Aufgabe 1: Punkt 1 = 610, Punkt 2 = 880, Punkt 3 = 760, Punkt 4 = 810,

Aufgabe 2: Punkt 1 = 890, Punkt 2 = 200, Punkt 3 = 480, Punkt 4 = 400,

Aufgabe 3: Punkt 1 = 600, Punkt 2 = 830, Punkt 3 = 290, Punkt 4 = 470,

Aufgabe 4: Punkt 1 = 400, Punkt 2 = 360, Punkt 3 = 570, Punkt 4 = 620,

www.bin-dann-weg.de -> Ferienwohnungen und Ferienhäuser.

www.kleinanzeigen-und-annoncen.de -> Kostenlose Kleinanzeigen deutschlandweit.