

Im Zahlenbereich bis max. 1000.

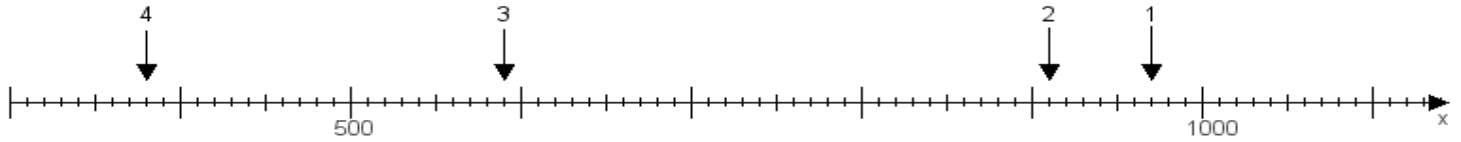
Name:

Klasse:

Datum:

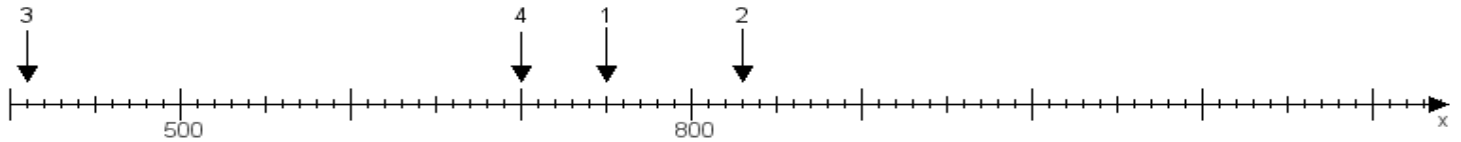
**Aufgabe 1:**

Ermittle die Werte von den Punkten 1 bis 4.



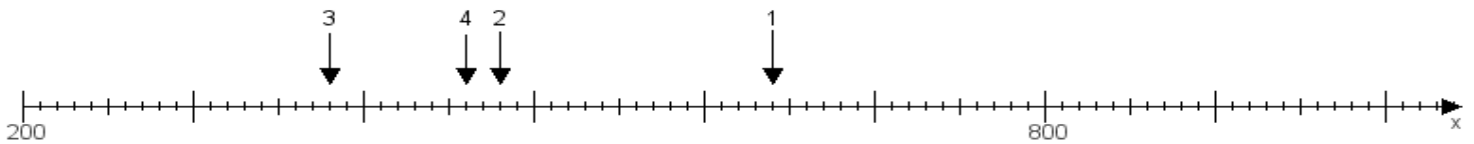
**Aufgabe 2:**

Ermittle die Werte von den Punkten 1 bis 4.



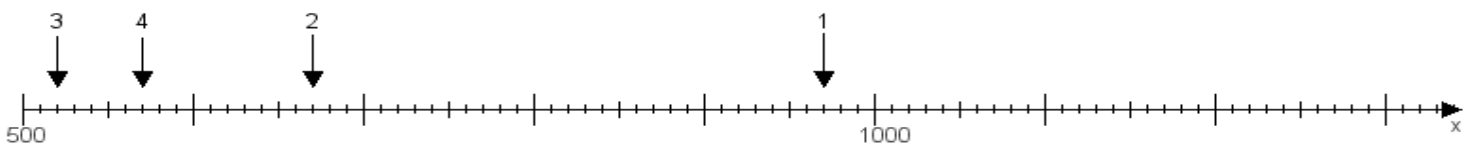
**Aufgabe 3:**

Ermittle die Werte von den Punkten 1 bis 4.



**Aufgabe 4:**

Ermittle die Werte von den Punkten 1 bis 4.



[www.das-bastelteam.de](http://www.das-bastelteam.de) -> Zahlenstrahl mit 4 Punkten. Blatt Nr.:125  
Lösungen:

Aufgabe 1: Punkt 1 = 970, Punkt 2 = 910, Punkt 3 = 590, Punkt 4 = 380,

Aufgabe 2: Punkt 1 = 750, Punkt 2 = 830, Punkt 3 = 410, Punkt 4 = 700,

Aufgabe 3: Punkt 1 = 640, Punkt 2 = 480, Punkt 3 = 380, Punkt 4 = 460,

Aufgabe 4: Punkt 1 = 970, Punkt 2 = 670, Punkt 3 = 520, Punkt 4 = 570,