

Im Zahlenbereich bis max. 1000.

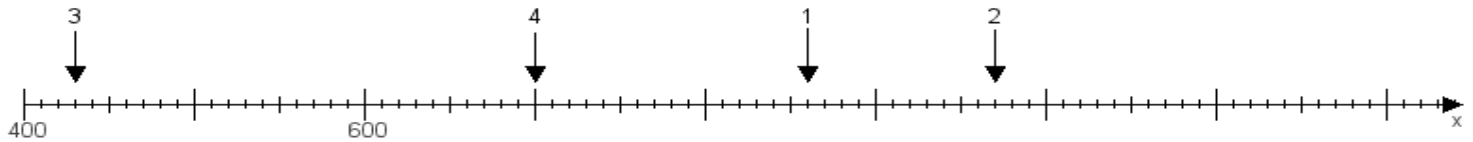
Name:

Klasse:

Datum:

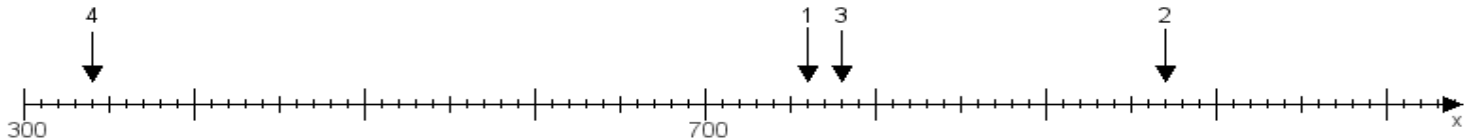
Aufgabe 1:

Ermittle die Werte von den Punkten 1 bis 4.



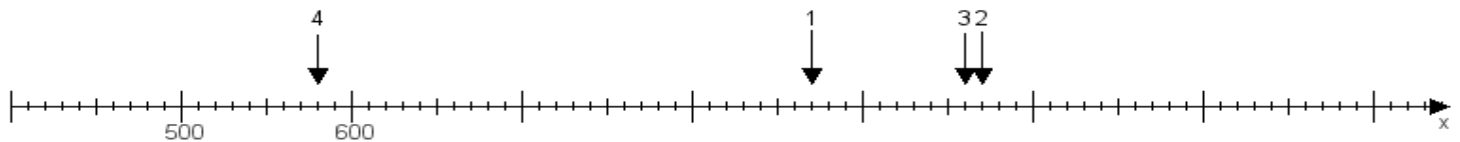
Aufgabe 2:

Ermittle die Werte von den Punkten 1 bis 4.



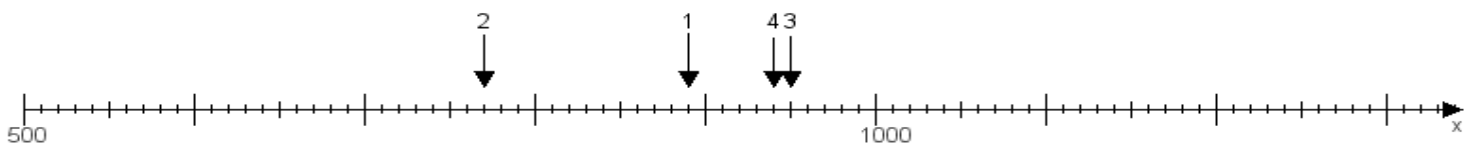
Aufgabe 3:

Ermittle die Werte von den Punkten 1 bis 4.



Aufgabe 4:

Ermittle die Werte von den Punkten 1 bis 4.



www.das-bastelteam.de -> Zahlenstrahl mit 4 Punkten. Blatt Nr.:124
Lösungen:

Aufgabe 1: Punkt 1 = 860, Punkt 2 = 970, Punkt 3 = 430, Punkt 4 = 700,

Aufgabe 2: Punkt 1 = 760, Punkt 2 = 970, Punkt 3 = 780, Punkt 4 = 340,

Aufgabe 3: Punkt 1 = 870, Punkt 2 = 970, Punkt 3 = 960, Punkt 4 = 580,

Aufgabe 4: Punkt 1 = 890, Punkt 2 = 770, Punkt 3 = 950, Punkt 4 = 940,