

Im Zahlenbereich bis max. 1000.

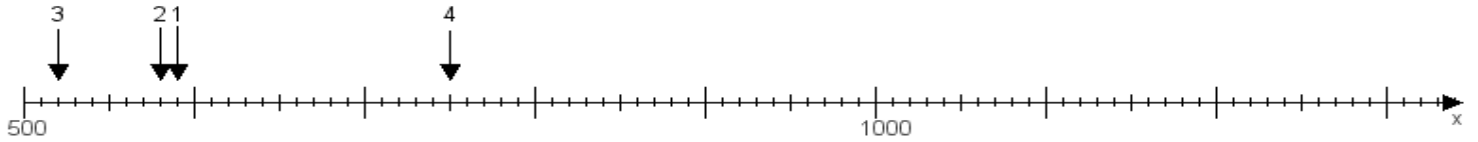
Name:

Klasse:

Datum:

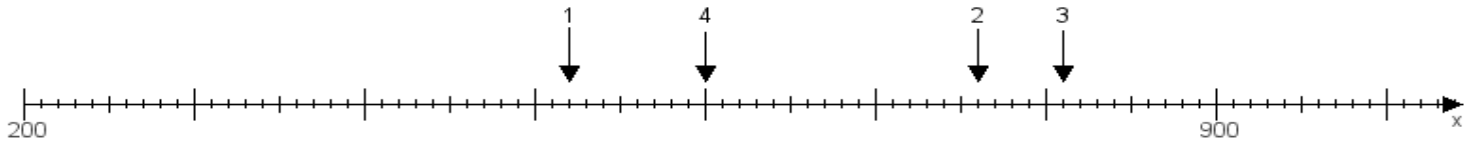
Aufgabe 1:

Ermittle die Werte von den Punkten 1 bis 4.



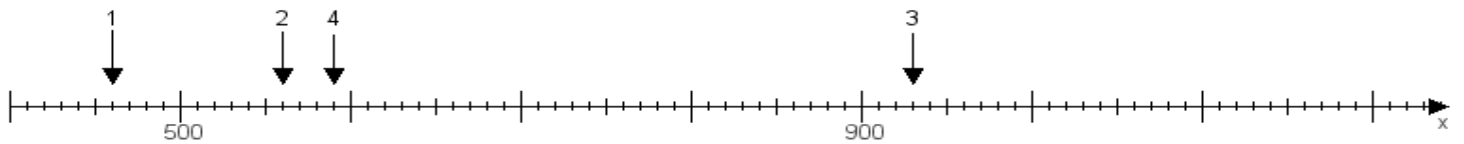
Aufgabe 2:

Ermittle die Werte von den Punkten 1 bis 4.



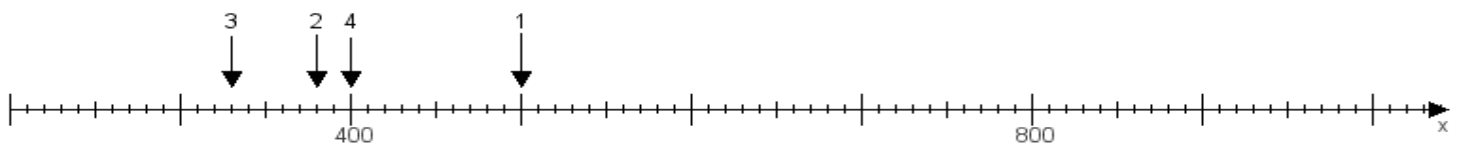
Aufgabe 3:

Ermittle die Werte von den Punkten 1 bis 4.



Aufgabe 4:

Ermittle die Werte von den Punkten 1 bis 4.



www.das-bastelteam.de -> Zahlenstrahl mit 4 Punkten. Blatt Nr.:122
Lösungen:

Aufgabe 1: Punkt 1 = 590, Punkt 2 = 580, Punkt 3 = 520, Punkt 4 = 750,

Aufgabe 2: Punkt 1 = 520, Punkt 2 = 760, Punkt 3 = 810, Punkt 4 = 600,

Aufgabe 3: Punkt 1 = 460, Punkt 2 = 560, Punkt 3 = 930, Punkt 4 = 590,

Aufgabe 4: Punkt 1 = 500, Punkt 2 = 380, Punkt 3 = 330, Punkt 4 = 400,