

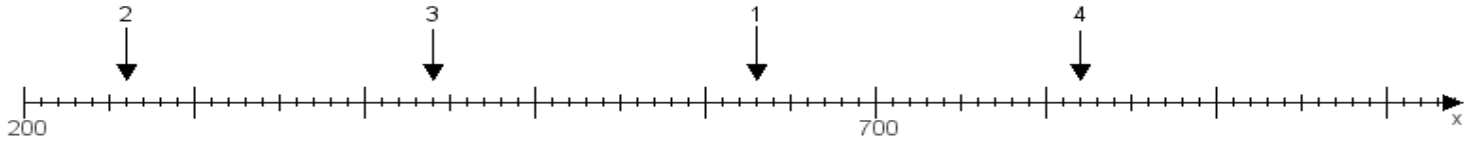
Name:

Klasse:

Datum:

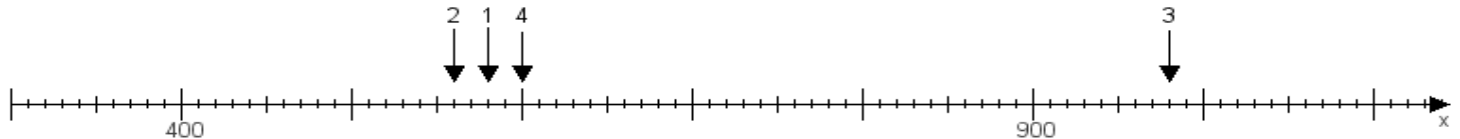
Aufgabe 1:

Ermittle die Werte von den Punkten 1 bis 4.



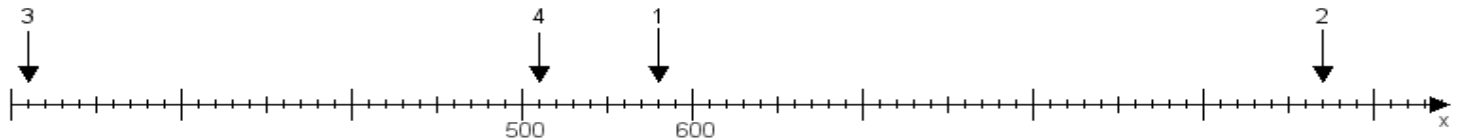
Aufgabe 2:

Ermittle die Werte von den Punkten 1 bis 4.



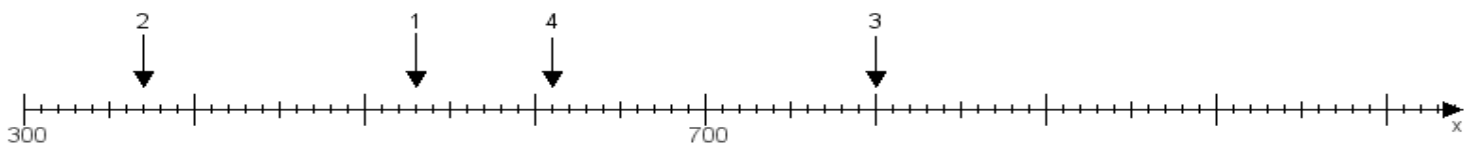
Aufgabe 3:

Ermittle die Werte von den Punkten 1 bis 4.



Aufgabe 4:

Ermittle die Werte von den Punkten 1 bis 4.



www.das-bastelteam.de -> Zahlenstrahl mit 4 Punkten. Blatt Nr.:11
Lösungen:

Aufgabe 1: Punkt 1 = 630, Punkt 2 = 260, Punkt 3 = 440, Punkt 4 = 820,

Aufgabe 2: Punkt 1 = 580, Punkt 2 = 560, Punkt 3 = 980, Punkt 4 = 600,

Aufgabe 3: Punkt 1 = 580, Punkt 2 = 970, Punkt 3 = 210, Punkt 4 = 510,

Aufgabe 4: Punkt 1 = 530, Punkt 2 = 370, Punkt 3 = 800, Punkt 4 = 610,