

Im Zahlenbereich bis max. 1000.

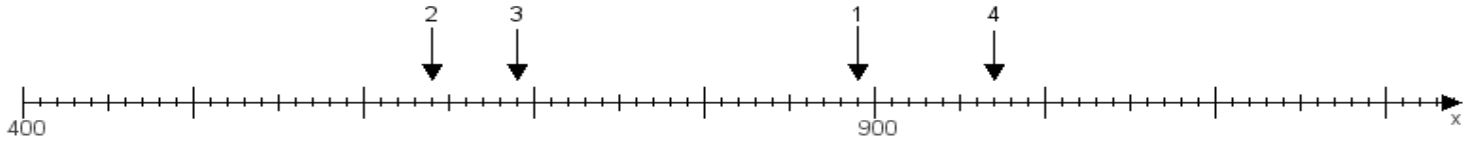
Name:

Klasse:

Datum:

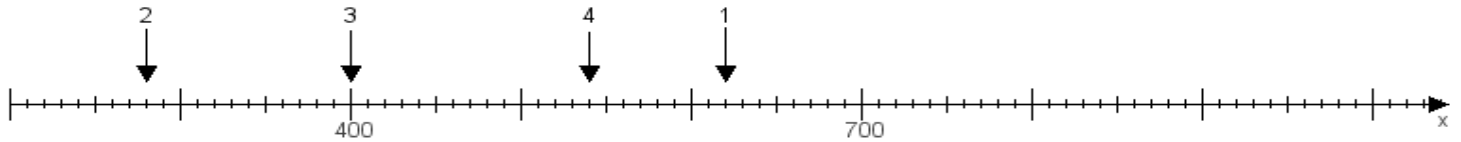
Aufgabe 1:

Ermittle die Werte von den Punkten 1 bis 4.



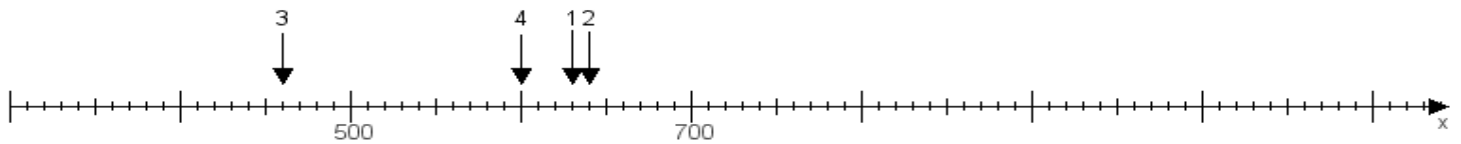
Aufgabe 2:

Ermittle die Werte von den Punkten 1 bis 4.



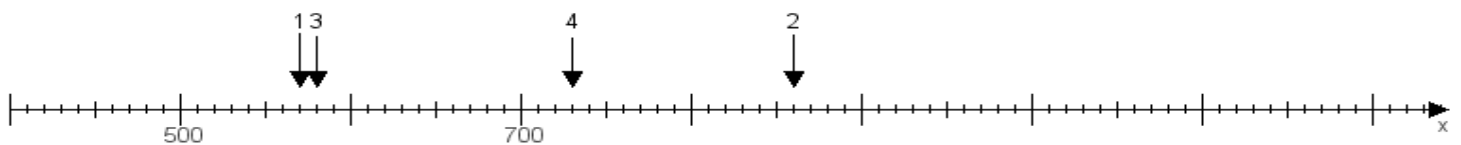
Aufgabe 3:

Ermittle die Werte von den Punkten 1 bis 4.



Aufgabe 4:

Ermittle die Werte von den Punkten 1 bis 4.



www.das-bastelteam.de -> Zahlenstrahl mit 4 Punkten. Blatt Nr.:118
Lösungen:

Aufgabe 1: Punkt 1 = 890, Punkt 2 = 640, Punkt 3 = 690, Punkt 4 = 970,

Aufgabe 2: Punkt 1 = 620, Punkt 2 = 280, Punkt 3 = 400, Punkt 4 = 540,

Aufgabe 3: Punkt 1 = 630, Punkt 2 = 640, Punkt 3 = 460, Punkt 4 = 600,

Aufgabe 4: Punkt 1 = 570, Punkt 2 = 860, Punkt 3 = 580, Punkt 4 = 730,