

Im Zahlenbereich bis max. 1000.

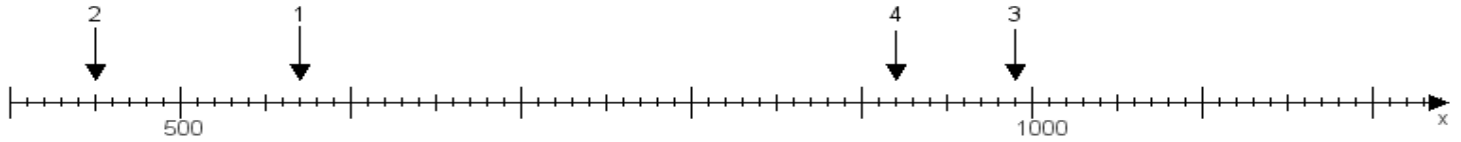
Name:

Klasse:

Datum:

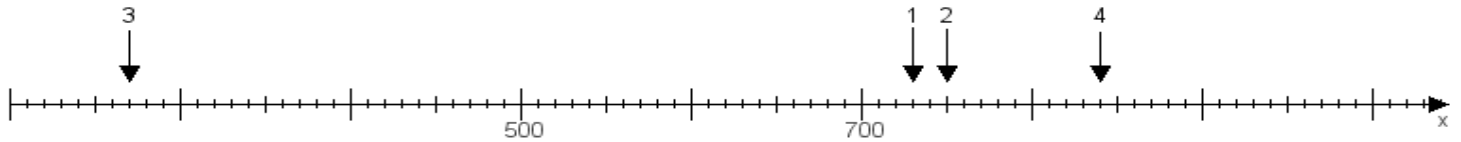
Aufgabe 1:

Ermittle die Werte von den Punkten 1 bis 4.



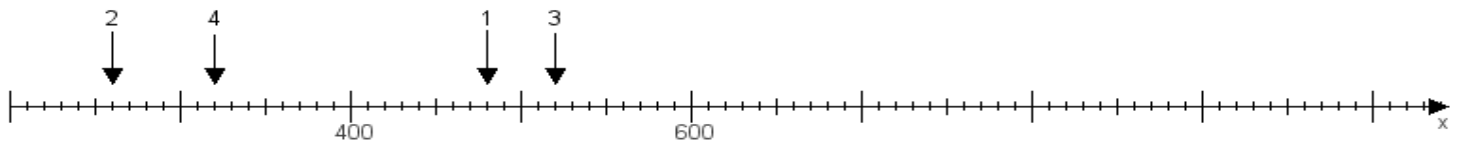
Aufgabe 2:

Ermittle die Werte von den Punkten 1 bis 4.



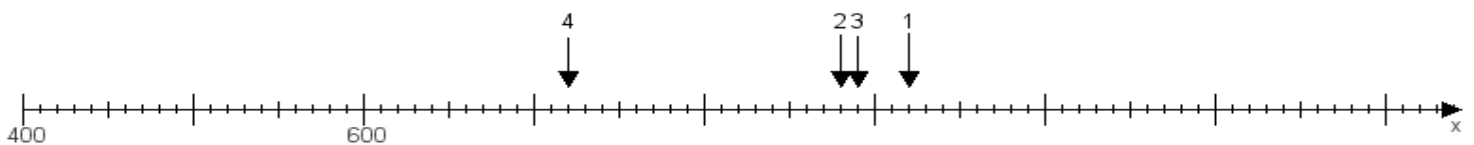
Aufgabe 3:

Ermittle die Werte von den Punkten 1 bis 4.



Aufgabe 4:

Ermittle die Werte von den Punkten 1 bis 4.



www.das-bastelteam.de -> Zahlenstrahl mit 4 Punkten. Blatt Nr.:117
Lösungen:

Aufgabe 1: Punkt 1 = 570, Punkt 2 = 450, Punkt 3 = 990, Punkt 4 = 920,

Aufgabe 2: Punkt 1 = 730, Punkt 2 = 750, Punkt 3 = 270, Punkt 4 = 840,

Aufgabe 3: Punkt 1 = 480, Punkt 2 = 260, Punkt 3 = 520, Punkt 4 = 320,

Aufgabe 4: Punkt 1 = 920, Punkt 2 = 880, Punkt 3 = 890, Punkt 4 = 720,