

Im Zahlenbereich bis max. 1000.

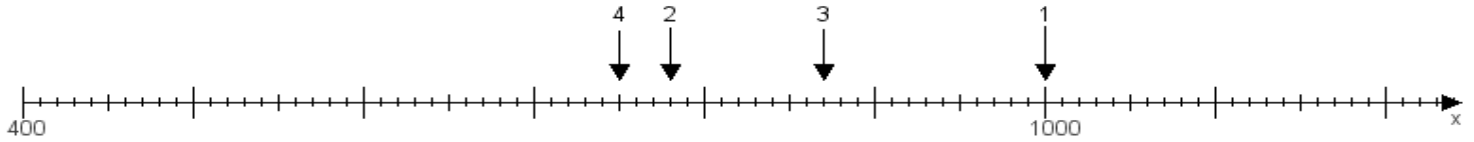
Name:

Klasse:

Datum:

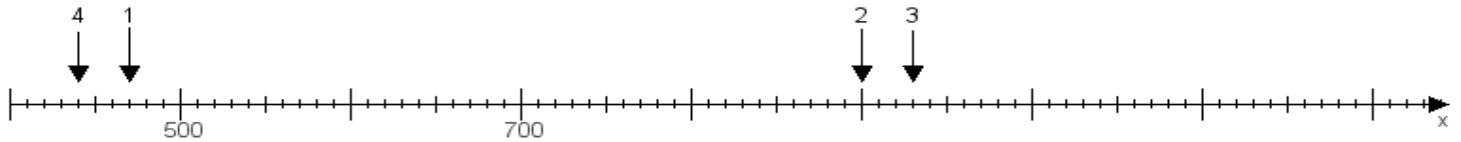
**Aufgabe 1:**

Ermittle die Werte von den Punkten 1 bis 4.



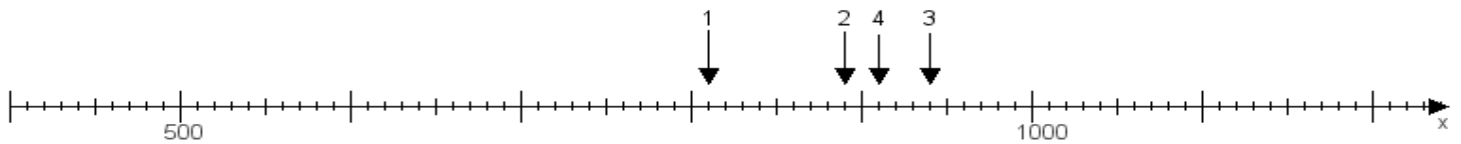
**Aufgabe 2:**

Ermittle die Werte von den Punkten 1 bis 4.



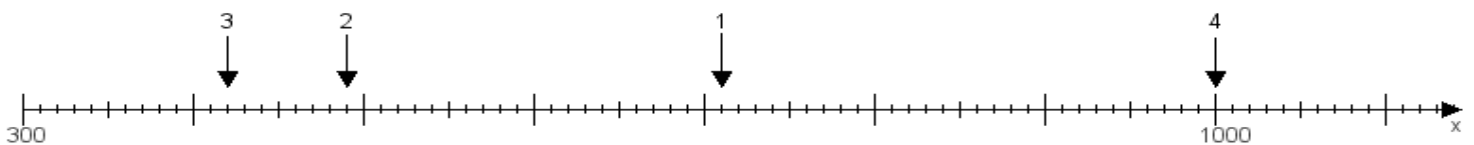
**Aufgabe 3:**

Ermittle die Werte von den Punkten 1 bis 4.



**Aufgabe 4:**

Ermittle die Werte von den Punkten 1 bis 4.



[www.das-bastelteam.de](http://www.das-bastelteam.de) -> Zahlenstrahl mit 4 Punkten. Blatt Nr.:116  
Lösungen:

Aufgabe 1: Punkt 1 = 1000, Punkt 2 = 780, Punkt 3 = 870, Punkt 4 = 750,

Aufgabe 2: Punkt 1 = 470, Punkt 2 = 900, Punkt 3 = 930, Punkt 4 = 440,

Aufgabe 3: Punkt 1 = 810, Punkt 2 = 890, Punkt 3 = 940, Punkt 4 = 910,

Aufgabe 4: Punkt 1 = 710, Punkt 2 = 490, Punkt 3 = 420, Punkt 4 = 1000,