

Im Zahlenbereich bis max. 1000.

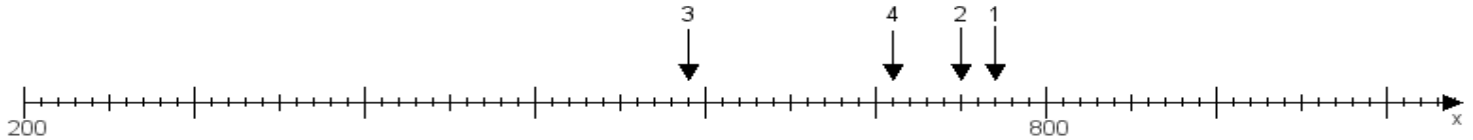
Name:

Klasse:

Datum:

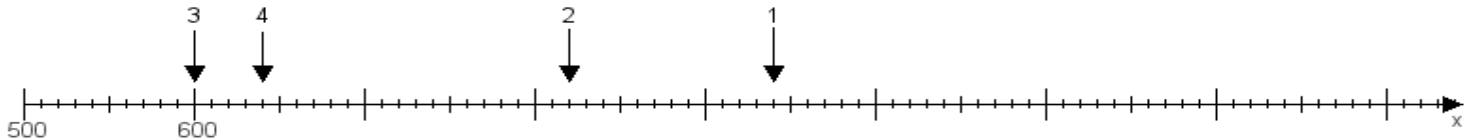
Aufgabe 1:

Ermittle die Werte von den Punkten 1 bis 4.



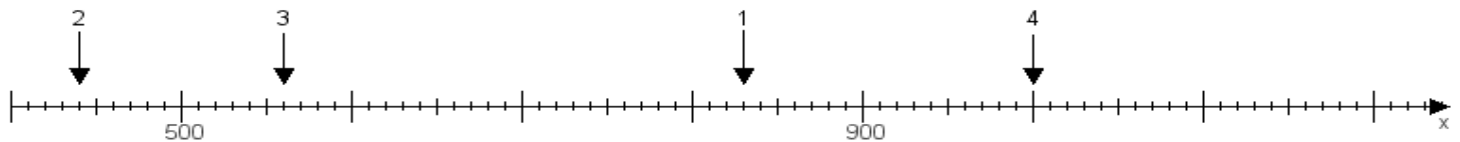
Aufgabe 2:

Ermittle die Werte von den Punkten 1 bis 4.



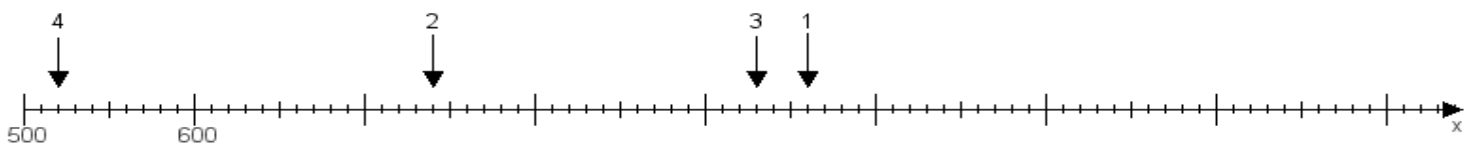
Aufgabe 3:

Ermittle die Werte von den Punkten 1 bis 4.



Aufgabe 4:

Ermittle die Werte von den Punkten 1 bis 4.



www.das-bastelteam.de -> Zahlenstrahl mit 4 Punkten. Blatt Nr.:115
Lösungen:

Aufgabe 1: Punkt 1 = 770, Punkt 2 = 750, Punkt 3 = 590, Punkt 4 = 710,

Aufgabe 2: Punkt 1 = 940, Punkt 2 = 820, Punkt 3 = 600, Punkt 4 = 640,

Aufgabe 3: Punkt 1 = 830, Punkt 2 = 440, Punkt 3 = 560, Punkt 4 = 1000,

Aufgabe 4: Punkt 1 = 960, Punkt 2 = 740, Punkt 3 = 930, Punkt 4 = 520,