

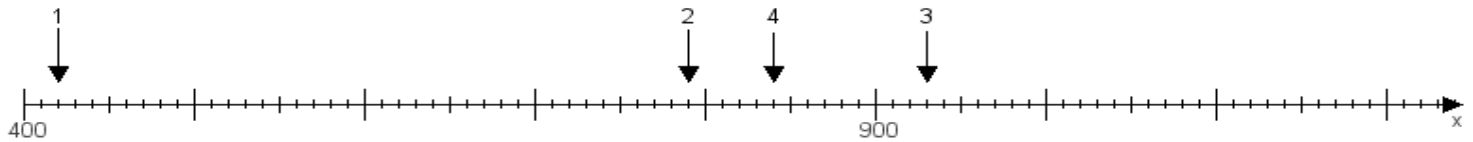
Name:

Klasse:

Datum:

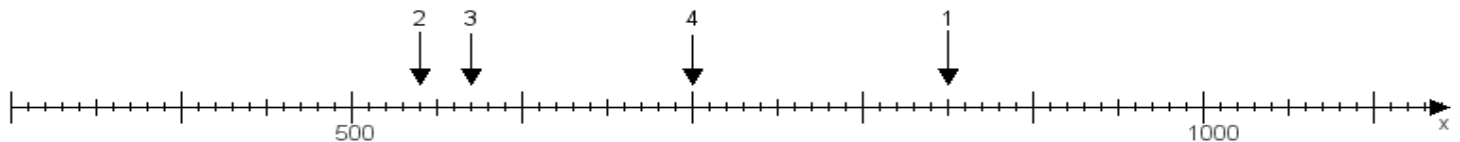
Aufgabe 1:

Ermittle die Werte von den Punkten 1 bis 4.



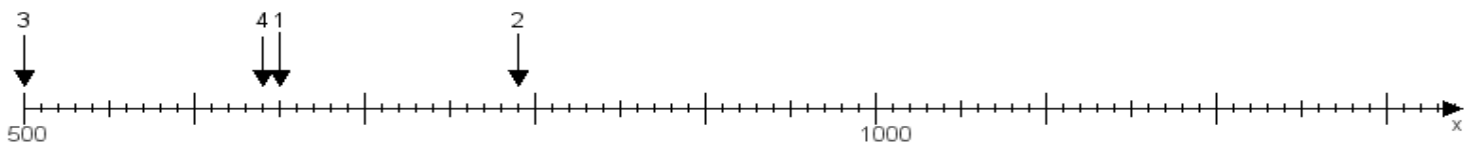
Aufgabe 2:

Ermittle die Werte von den Punkten 1 bis 4.



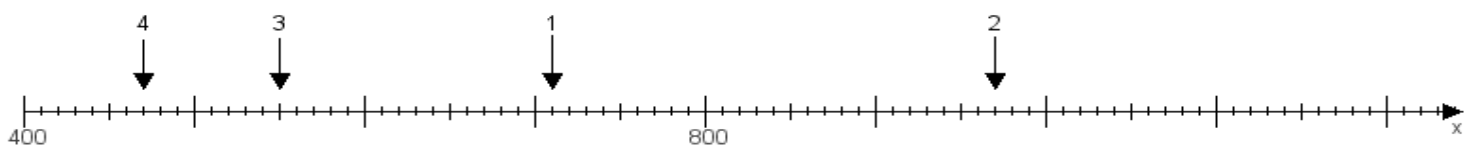
Aufgabe 3:

Ermittle die Werte von den Punkten 1 bis 4.



Aufgabe 4:

Ermittle die Werte von den Punkten 1 bis 4.



www.das-bastelteam.de -> Zahlenstrahl mit 4 Punkten. Blatt Nr.:113
Lösungen:

Aufgabe 1: Punkt 1 = 420, Punkt 2 = 790, Punkt 3 = 930, Punkt 4 = 840,

Aufgabe 2: Punkt 1 = 850, Punkt 2 = 540, Punkt 3 = 570, Punkt 4 = 700,

Aufgabe 3: Punkt 1 = 650, Punkt 2 = 790, Punkt 3 = 500, Punkt 4 = 640,

Aufgabe 4: Punkt 1 = 710, Punkt 2 = 970, Punkt 3 = 550, Punkt 4 = 470,