

Im Zahlenbereich bis max. 1000.

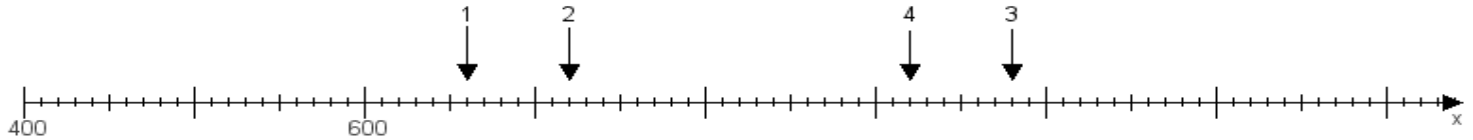
Name:

Klasse:

Datum:

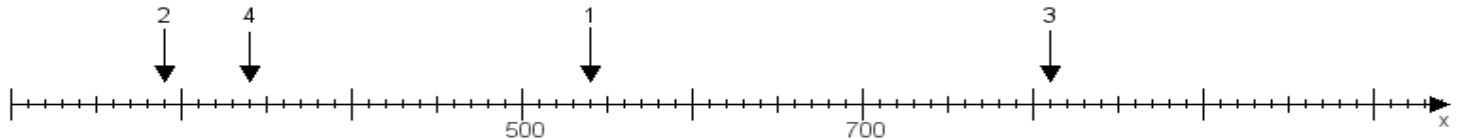
**Aufgabe 1:**

Ermittle die Werte von den Punkten 1 bis 4.



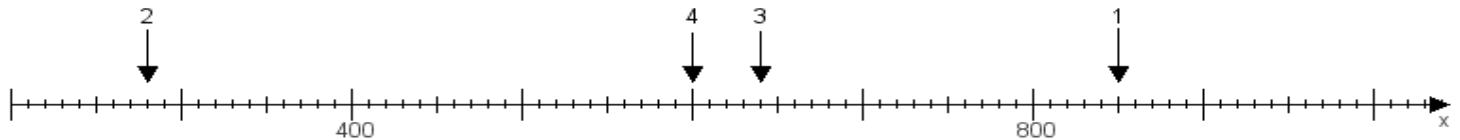
**Aufgabe 2:**

Ermittle die Werte von den Punkten 1 bis 4.



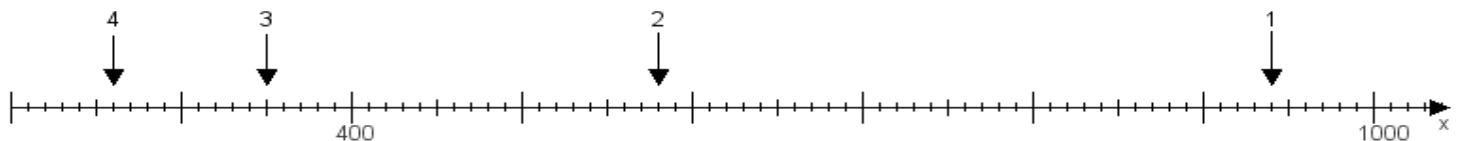
**Aufgabe 3:**

Ermittle die Werte von den Punkten 1 bis 4.



**Aufgabe 4:**

Ermittle die Werte von den Punkten 1 bis 4.



[www.das-bastelteam.de](http://www.das-bastelteam.de) -> Zahlenstrahl mit 4 Punkten. Blatt Nr.:111  
Lösungen:

Aufgabe 1: Punkt 1 = 660, Punkt 2 = 720, Punkt 3 = 980, Punkt 4 = 920,

Aufgabe 2: Punkt 1 = 540, Punkt 2 = 290, Punkt 3 = 810, Punkt 4 = 340,

Aufgabe 3: Punkt 1 = 850, Punkt 2 = 280, Punkt 3 = 640, Punkt 4 = 600,

Aufgabe 4: Punkt 1 = 940, Punkt 2 = 580, Punkt 3 = 350, Punkt 4 = 260,