

Im Zahlenbereich bis max. 1000.

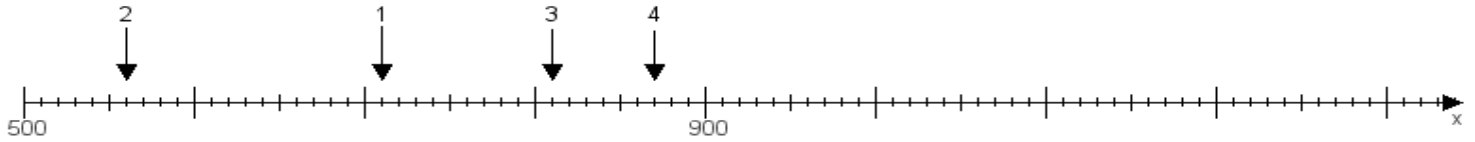
Name:

Klasse:

Datum:

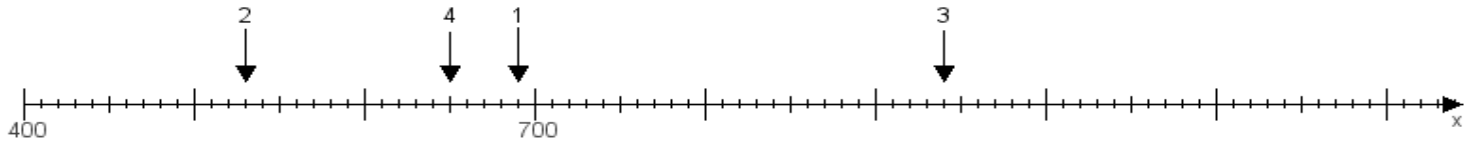
**Aufgabe 1:**

Ermittle die Werte von den Punkten 1 bis 4.



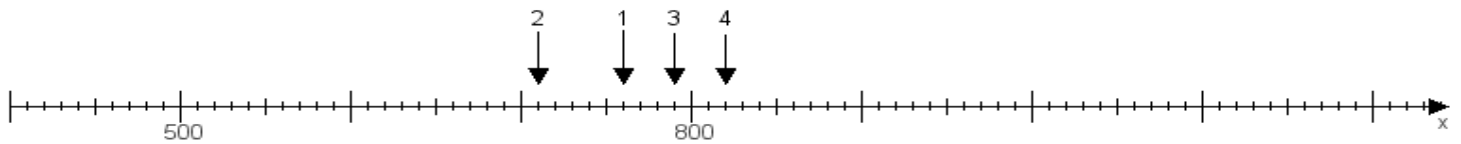
**Aufgabe 2:**

Ermittle die Werte von den Punkten 1 bis 4.



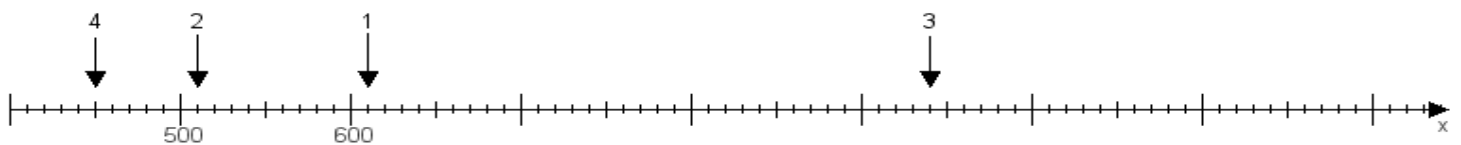
**Aufgabe 3:**

Ermittle die Werte von den Punkten 1 bis 4.



**Aufgabe 4:**

Ermittle die Werte von den Punkten 1 bis 4.



[www.das-bastelteam.de](http://www.das-bastelteam.de) -> Zahlenstrahl mit 4 Punkten. Blatt Nr.:10  
Lösungen:

Aufgabe 1: Punkt 1 = 710, Punkt 2 = 560, Punkt 3 = 810, Punkt 4 = 870,

Aufgabe 2: Punkt 1 = 690, Punkt 2 = 530, Punkt 3 = 940, Punkt 4 = 650,

Aufgabe 3: Punkt 1 = 760, Punkt 2 = 710, Punkt 3 = 790, Punkt 4 = 820,

Aufgabe 4: Punkt 1 = 610, Punkt 2 = 510, Punkt 3 = 940, Punkt 4 = 450,