

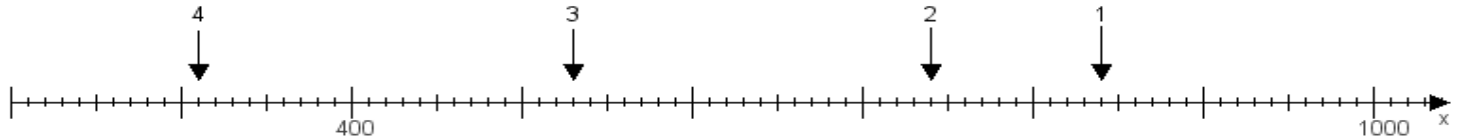
Name:

Klasse:

Datum:

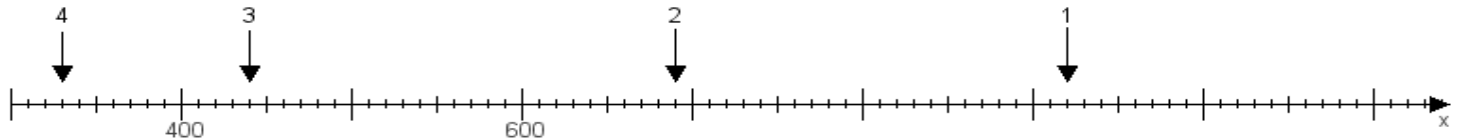
**Aufgabe 1:**

Ermittle die Werte von den Punkten 1 bis 4.



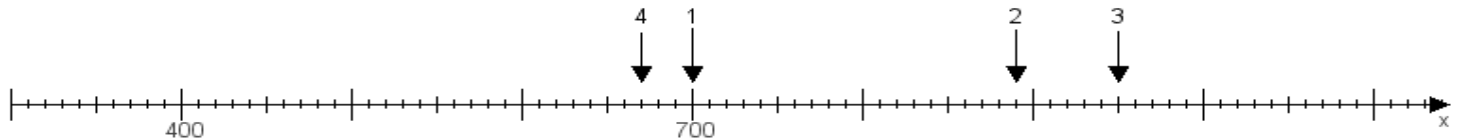
**Aufgabe 2:**

Ermittle die Werte von den Punkten 1 bis 4.



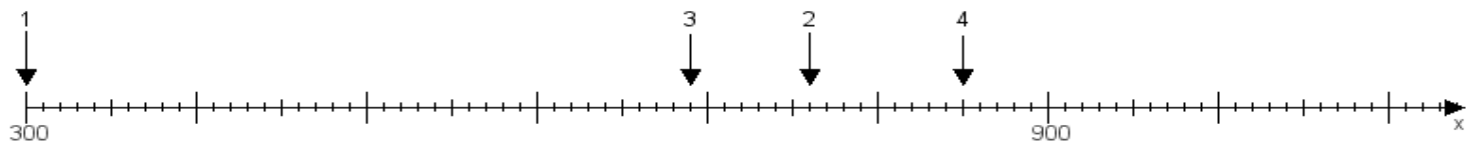
**Aufgabe 3:**

Ermittle die Werte von den Punkten 1 bis 4.



**Aufgabe 4:**

Ermittle die Werte von den Punkten 1 bis 4.



[www.das-bastelteam.de](http://www.das-bastelteam.de) -> Zahlenstrahl mit 4 Punkten. Blatt Nr.:109  
Lösungen:

Aufgabe 1: Punkt 1 = 840, Punkt 2 = 740, Punkt 3 = 530, Punkt 4 = 310,

Aufgabe 2: Punkt 1 = 920, Punkt 2 = 690, Punkt 3 = 440, Punkt 4 = 330,

Aufgabe 3: Punkt 1 = 700, Punkt 2 = 890, Punkt 3 = 950, Punkt 4 = 670,

Aufgabe 4: Punkt 1 = 300, Punkt 2 = 760, Punkt 3 = 690, Punkt 4 = 850,