

Im Zahlenbereich bis max. 1000.

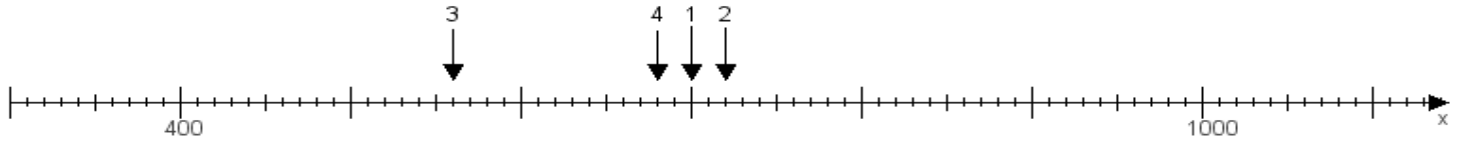
Name:

Klasse:

Datum:

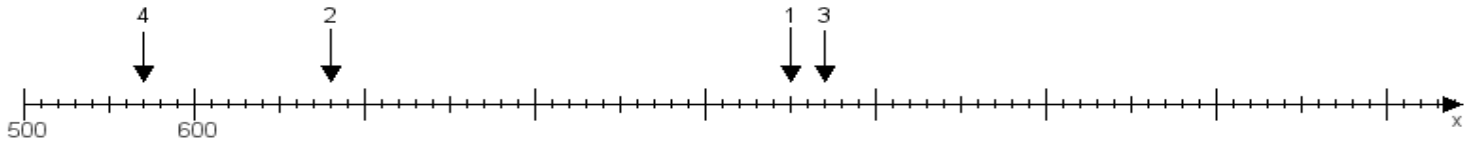
**Aufgabe 1:**

Ermittle die Werte von den Punkten 1 bis 4.



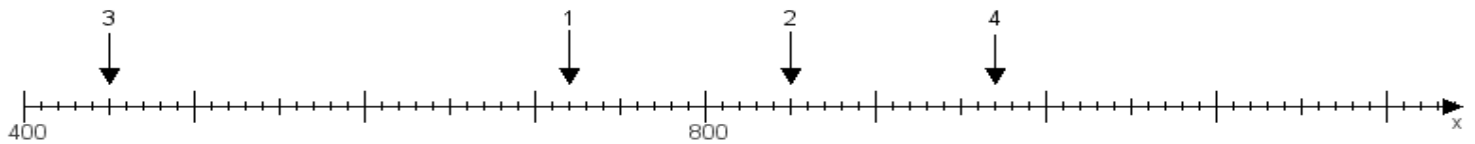
**Aufgabe 2:**

Ermittle die Werte von den Punkten 1 bis 4.



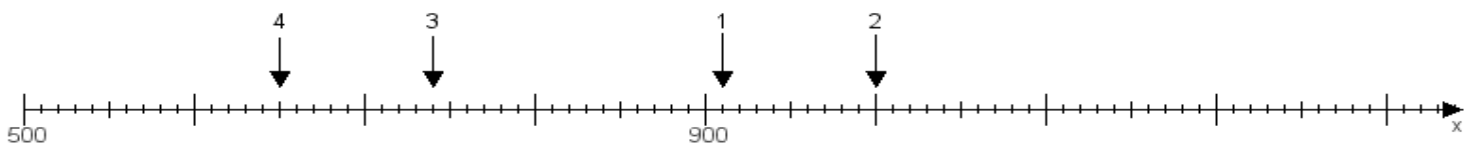
**Aufgabe 3:**

Ermittle die Werte von den Punkten 1 bis 4.



**Aufgabe 4:**

Ermittle die Werte von den Punkten 1 bis 4.



[www.das-bastelteam.de](http://www.das-bastelteam.de) -> Zahlenstrahl mit 4 Punkten. Blatt Nr.:108  
Lösungen:

Aufgabe 1: Punkt 1 = 700, Punkt 2 = 720, Punkt 3 = 560, Punkt 4 = 680,

Aufgabe 2: Punkt 1 = 950, Punkt 2 = 680, Punkt 3 = 970, Punkt 4 = 570,

Aufgabe 3: Punkt 1 = 720, Punkt 2 = 850, Punkt 3 = 450, Punkt 4 = 970,

Aufgabe 4: Punkt 1 = 910, Punkt 2 = 1000, Punkt 3 = 740, Punkt 4 = 650,