

Im Zahlenbereich bis max. 1000.

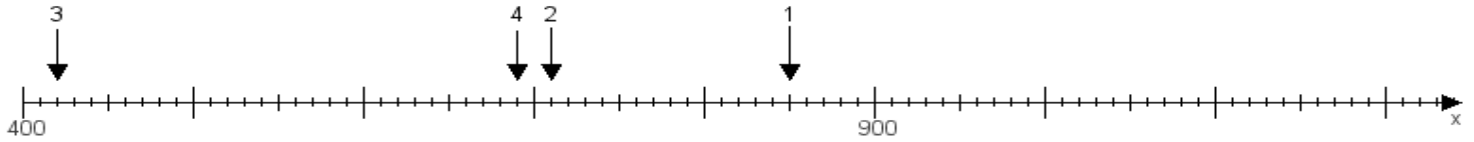
Name:

Klasse:

Datum:

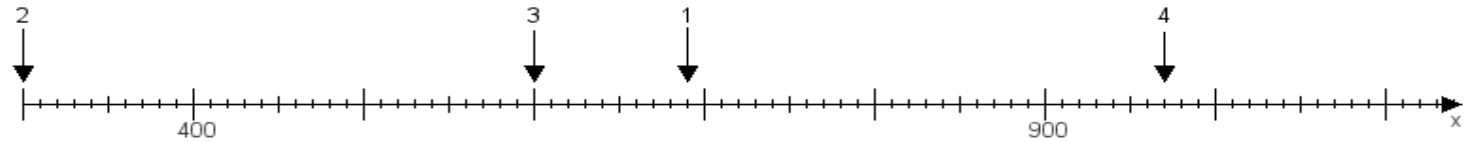
Aufgabe 1:

Ermittle die Werte von den Punkten 1 bis 4.



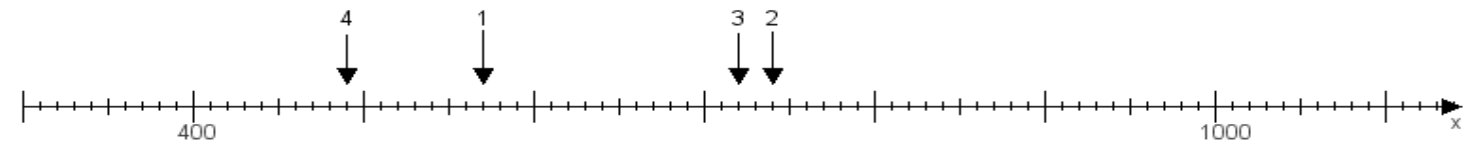
Aufgabe 2:

Ermittle die Werte von den Punkten 1 bis 4.



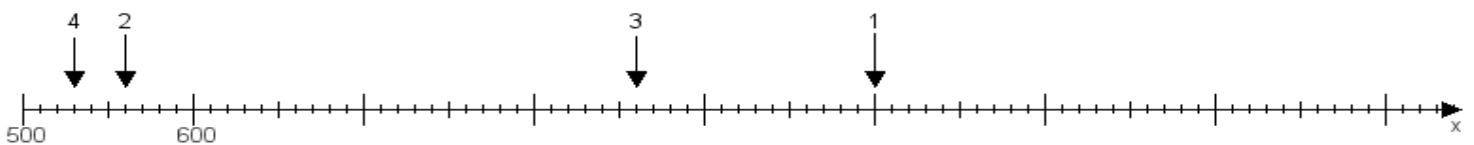
Aufgabe 3:

Ermittle die Werte von den Punkten 1 bis 4.



Aufgabe 4:

Ermittle die Werte von den Punkten 1 bis 4.



www.das-bastelteam.de -> Zahlenstrahl mit 4 Punkten. Blatt Nr.:107
Lösungen:

Aufgabe 1: Punkt 1 = 850, Punkt 2 = 710, Punkt 3 = 420, Punkt 4 = 690,

Aufgabe 2: Punkt 1 = 690, Punkt 2 = 300, Punkt 3 = 600, Punkt 4 = 970,

Aufgabe 3: Punkt 1 = 570, Punkt 2 = 740, Punkt 3 = 720, Punkt 4 = 490,

Aufgabe 4: Punkt 1 = 1000, Punkt 2 = 560, Punkt 3 = 860, Punkt 4 = 530,