

Im Zahlenbereich bis max. 1000.

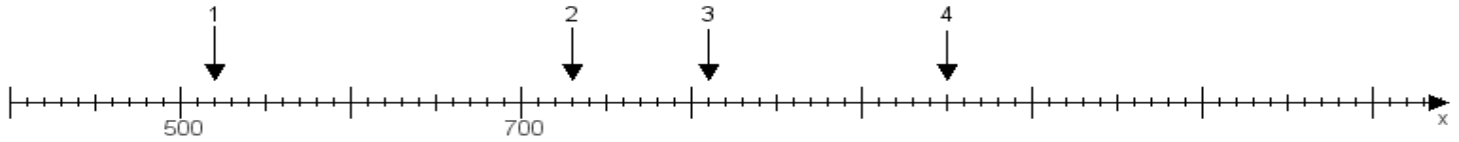
Name:

Klasse:

Datum:

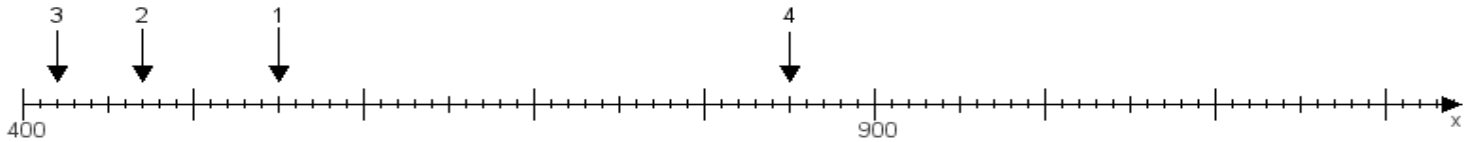
Aufgabe 1:

Ermittle die Werte von den Punkten 1 bis 4.



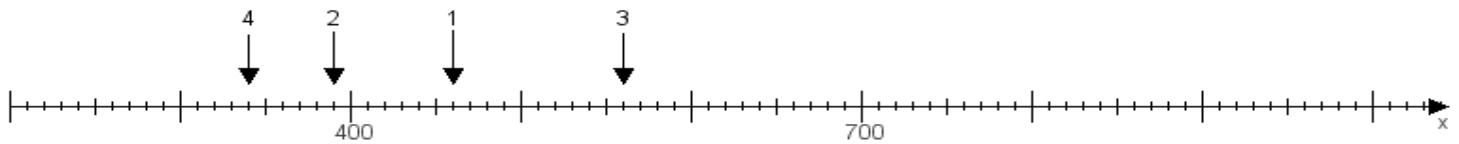
Aufgabe 2:

Ermittle die Werte von den Punkten 1 bis 4.



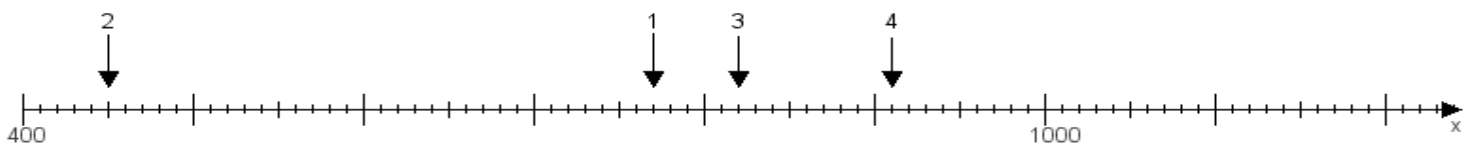
Aufgabe 3:

Ermittle die Werte von den Punkten 1 bis 4.



Aufgabe 4:

Ermittle die Werte von den Punkten 1 bis 4.



www.das-bastelteam.de -> Zahlenstrahl mit 4 Punkten. Blatt Nr.:106
Lösungen:

Aufgabe 1: Punkt 1 = 520, Punkt 2 = 730, Punkt 3 = 810, Punkt 4 = 950,

Aufgabe 2: Punkt 1 = 550, Punkt 2 = 470, Punkt 3 = 420, Punkt 4 = 850,

Aufgabe 3: Punkt 1 = 460, Punkt 2 = 390, Punkt 3 = 560, Punkt 4 = 340,

Aufgabe 4: Punkt 1 = 770, Punkt 2 = 450, Punkt 3 = 820, Punkt 4 = 910,

www.bin-dann-weg.de -> Ferienwohnungen und Ferienhäuser.

www.kleinanzeigen-und-annoncen.de -> Kostenlose Kleinanzeigen deutschlandweit.