

Im Zahlenbereich bis max. 1000.

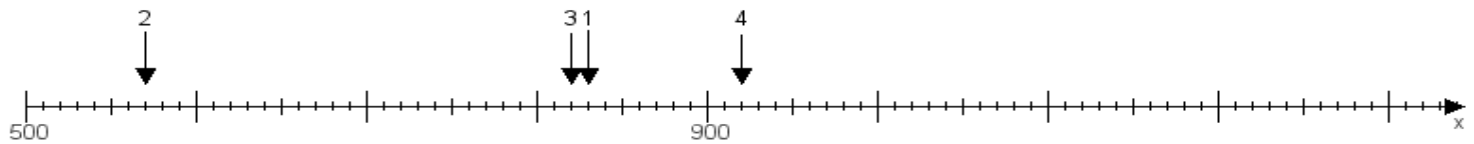
Name:

Klasse:

Datum:

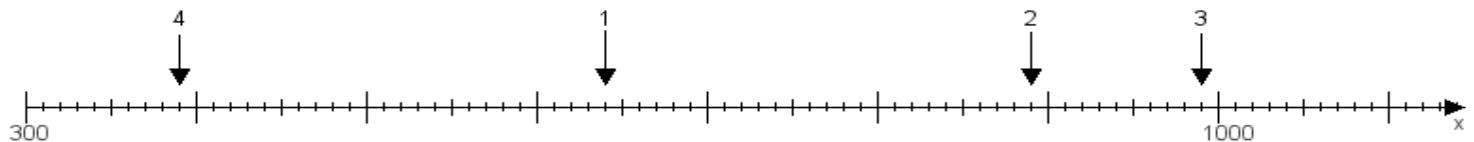
**Aufgabe 1:**

Ermittle die Werte von den Punkten 1 bis 4.



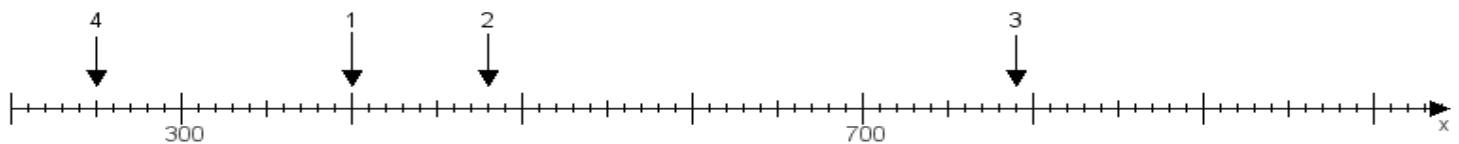
**Aufgabe 2:**

Ermittle die Werte von den Punkten 1 bis 4.



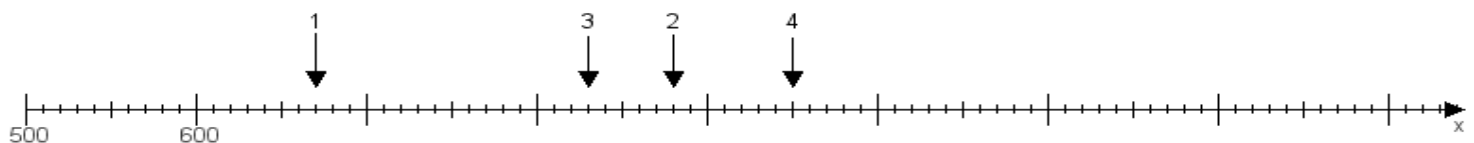
**Aufgabe 3:**

Ermittle die Werte von den Punkten 1 bis 4.



**Aufgabe 4:**

Ermittle die Werte von den Punkten 1 bis 4.



[www.das-bastelteam.de](http://www.das-bastelteam.de) -> Zahlenstrahl mit 4 Punkten. Blatt Nr.:105  
**Lösungen:**

Aufgabe 1: Punkt 1 = 830, Punkt 2 = 570, Punkt 3 = 820, Punkt 4 = 920,

Aufgabe 2: Punkt 1 = 640, Punkt 2 = 890, Punkt 3 = 990, Punkt 4 = 390,

Aufgabe 3: Punkt 1 = 400, Punkt 2 = 480, Punkt 3 = 790, Punkt 4 = 250,

Aufgabe 4: Punkt 1 = 670, Punkt 2 = 880, Punkt 3 = 830, Punkt 4 = 950,