

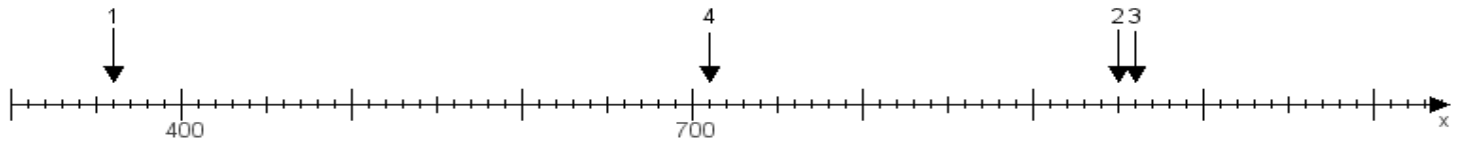
Name:

Klasse:

Datum:

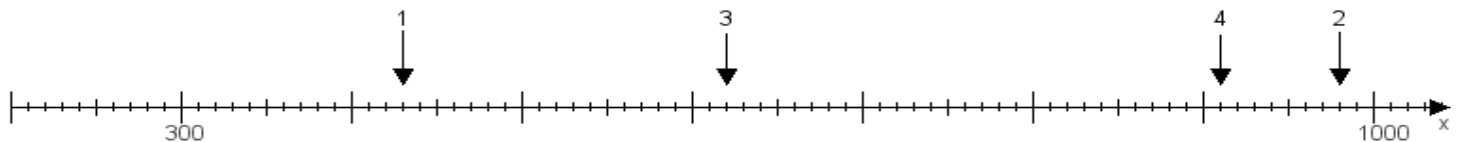
Aufgabe 1:

Ermittle die Werte von den Punkten 1 bis 4.



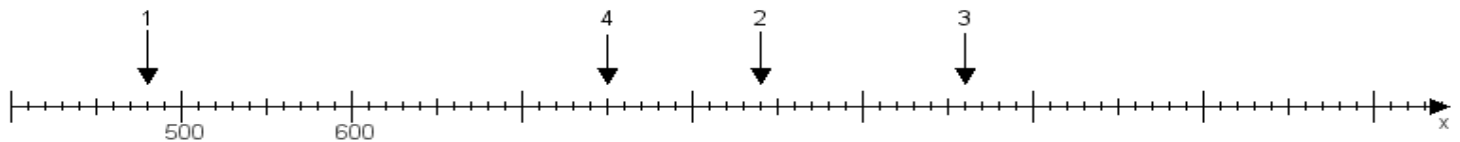
Aufgabe 2:

Ermittle die Werte von den Punkten 1 bis 4.



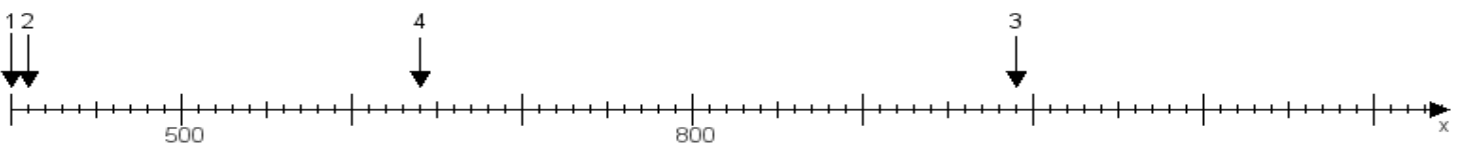
Aufgabe 3:

Ermittle die Werte von den Punkten 1 bis 4.



Aufgabe 4:

Ermittle die Werte von den Punkten 1 bis 4.



www.das-bastelteam.de -> Zahlenstrahl mit 4 Punkten. Blatt Nr.:104
Lösungen:

Aufgabe 1: Punkt 1 = 360, Punkt 2 = 950, Punkt 3 = 960, Punkt 4 = 710,

Aufgabe 2: Punkt 1 = 430, Punkt 2 = 980, Punkt 3 = 620, Punkt 4 = 910,

Aufgabe 3: Punkt 1 = 480, Punkt 2 = 840, Punkt 3 = 960, Punkt 4 = 750,

Aufgabe 4: Punkt 1 = 400, Punkt 2 = 410, Punkt 3 = 990, Punkt 4 = 640,