

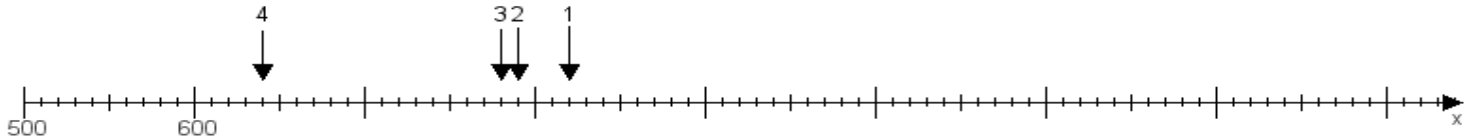
Name:

Klasse:

Datum:

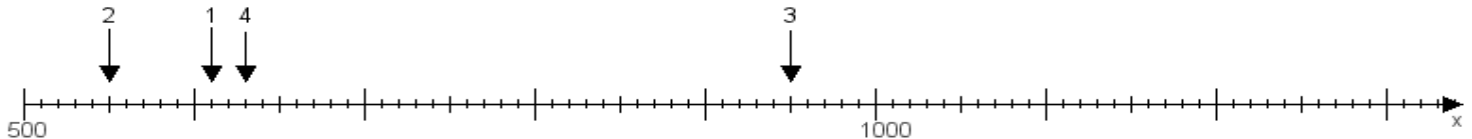
Aufgabe 1:

Ermittle die Werte von den Punkten 1 bis 4.



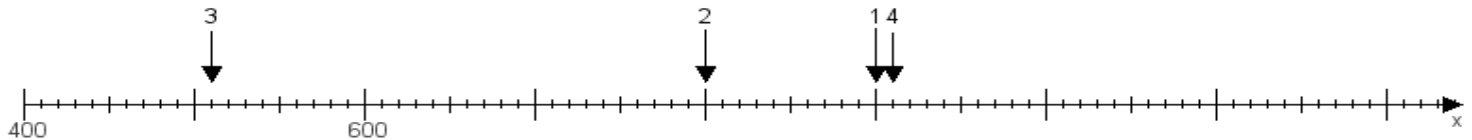
Aufgabe 2:

Ermittle die Werte von den Punkten 1 bis 4.



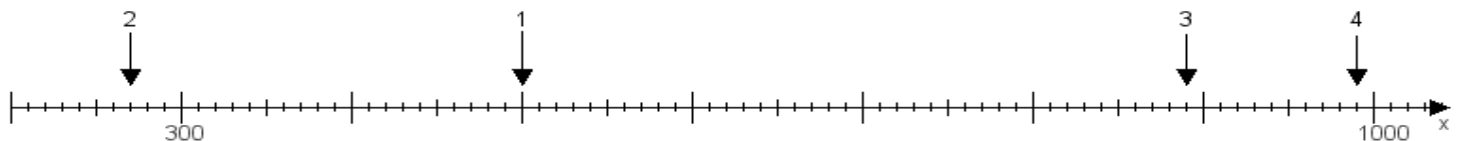
Aufgabe 3:

Ermittle die Werte von den Punkten 1 bis 4.



Aufgabe 4:

Ermittle die Werte von den Punkten 1 bis 4.



www.das-bastelteam.de -> Zahlenstrahl mit 4 Punkten. Blatt Nr.:103
Lösungen:

Aufgabe 1: Punkt 1 = 820, Punkt 2 = 790, Punkt 3 = 780, Punkt 4 = 640,

Aufgabe 2: Punkt 1 = 610, Punkt 2 = 550, Punkt 3 = 950, Punkt 4 = 630,

Aufgabe 3: Punkt 1 = 900, Punkt 2 = 800, Punkt 3 = 510, Punkt 4 = 910,

Aufgabe 4: Punkt 1 = 500, Punkt 2 = 270, Punkt 3 = 890, Punkt 4 = 990,