

Im Zahlenbereich bis max. 1000.

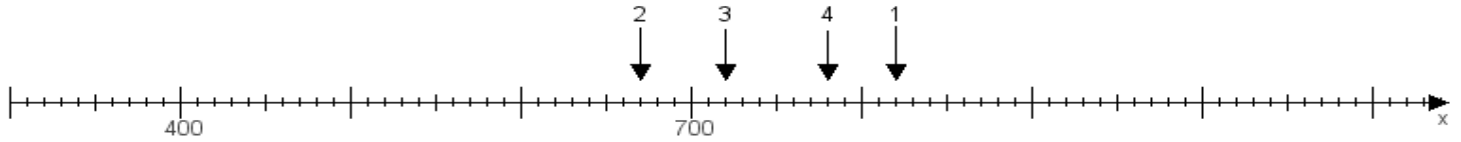
Name:

Klasse:

Datum:

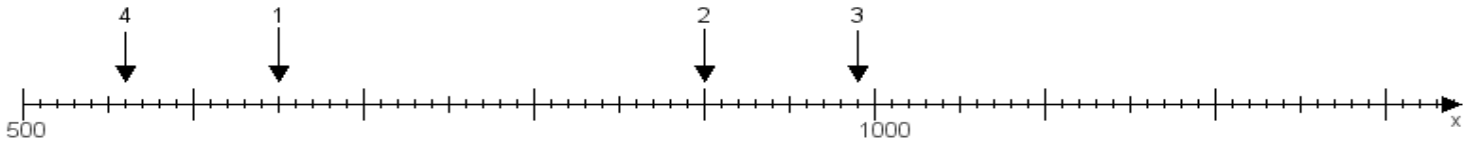
Aufgabe 1:

Ermittle die Werte von den Punkten 1 bis 4.



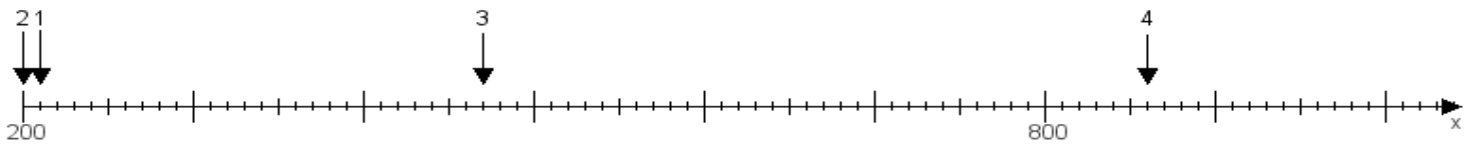
Aufgabe 2:

Ermittle die Werte von den Punkten 1 bis 4.



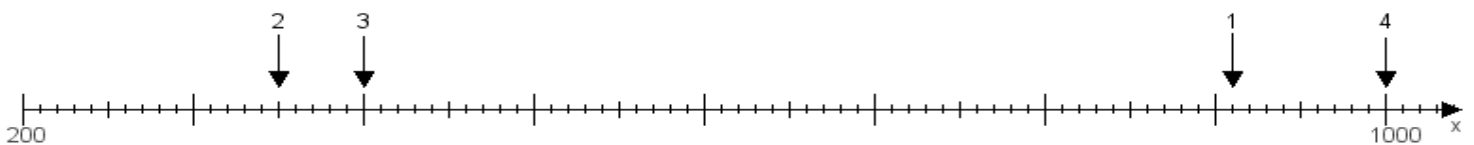
Aufgabe 3:

Ermittle die Werte von den Punkten 1 bis 4.



Aufgabe 4:

Ermittle die Werte von den Punkten 1 bis 4.



www.das-bastelteam.de -> Zahlenstrahl mit 4 Punkten. Blatt Nr.:102
Lösungen:

Aufgabe 1: Punkt 1 = 820, Punkt 2 = 670, Punkt 3 = 720, Punkt 4 = 780,

Aufgabe 2: Punkt 1 = 650, Punkt 2 = 900, Punkt 3 = 990, Punkt 4 = 560,

Aufgabe 3: Punkt 1 = 210, Punkt 2 = 200, Punkt 3 = 470, Punkt 4 = 860,

Aufgabe 4: Punkt 1 = 910, Punkt 2 = 350, Punkt 3 = 400, Punkt 4 = 1000,