

Im Zahlenbereich bis max. 1000.

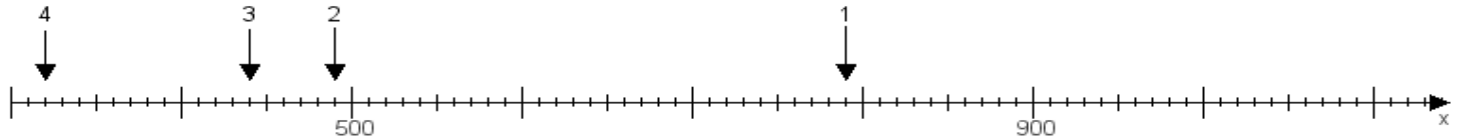
Name:

Klasse:

Datum:

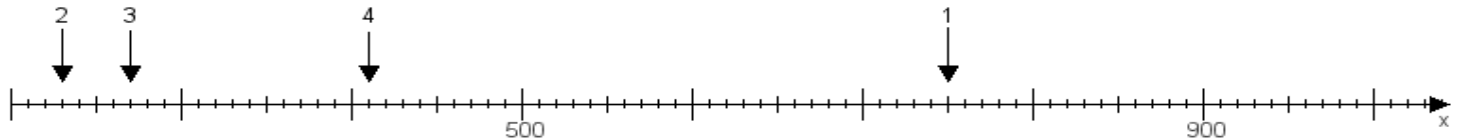
Aufgabe 1:

Ermittle die Werte von den Punkten 1 bis 4.



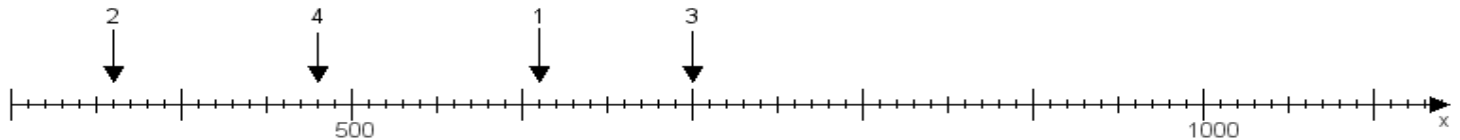
Aufgabe 2:

Ermittle die Werte von den Punkten 1 bis 4.



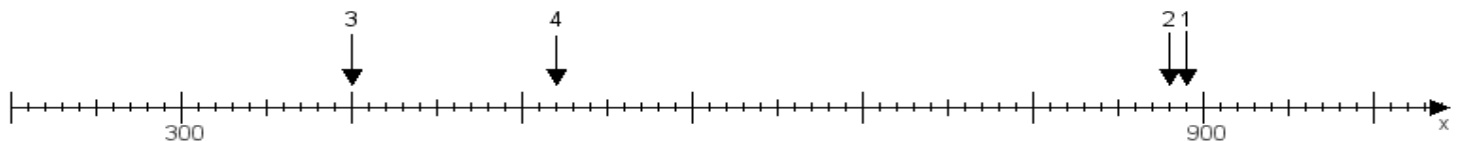
Aufgabe 3:

Ermittle die Werte von den Punkten 1 bis 4.



Aufgabe 4:

Ermittle die Werte von den Punkten 1 bis 4.



www.das-bastelteam.de -> Zahlenstrahl mit 4 Punkten. Blatt Nr.:101
Lösungen:

Aufgabe 1: Punkt 1 = 790, Punkt 2 = 490, Punkt 3 = 440, Punkt 4 = 320,

Aufgabe 2: Punkt 1 = 750, Punkt 2 = 230, Punkt 3 = 270, Punkt 4 = 410,

Aufgabe 3: Punkt 1 = 610, Punkt 2 = 360, Punkt 3 = 700, Punkt 4 = 480,

Aufgabe 4: Punkt 1 = 890, Punkt 2 = 880, Punkt 3 = 400, Punkt 4 = 520,