

Im Zahlenbereich bis max. 1000.

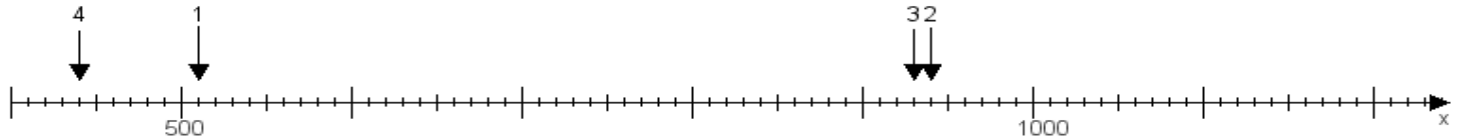
Name:

Klasse:

Datum:

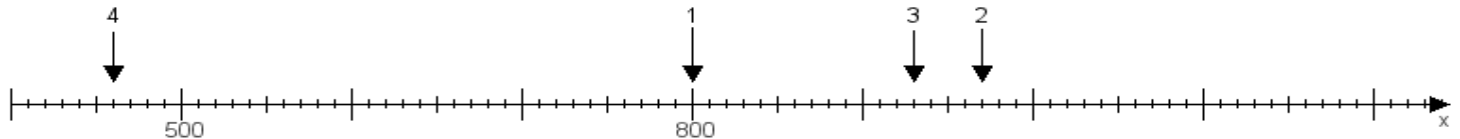
**Aufgabe 1:**

Ermittle die Werte von den Punkten 1 bis 4.



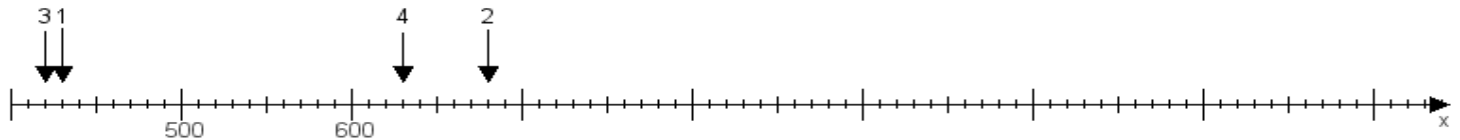
**Aufgabe 2:**

Ermittle die Werte von den Punkten 1 bis 4.



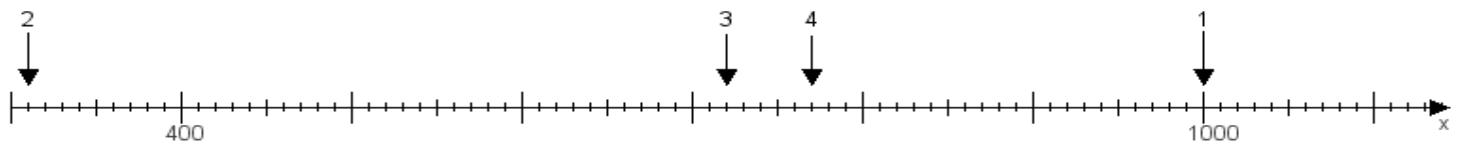
**Aufgabe 3:**

Ermittle die Werte von den Punkten 1 bis 4.



**Aufgabe 4:**

Ermittle die Werte von den Punkten 1 bis 4.



[www.das-bastelteam.de](http://www.das-bastelteam.de) -> Zahlenstrahl mit 4 Punkten. Blatt Nr.:100  
Lösungen:

Aufgabe 1: Punkt 1 = 510, Punkt 2 = 940, Punkt 3 = 930, Punkt 4 = 440,

Aufgabe 2: Punkt 1 = 800, Punkt 2 = 970, Punkt 3 = 930, Punkt 4 = 460,

Aufgabe 3: Punkt 1 = 430, Punkt 2 = 680, Punkt 3 = 420, Punkt 4 = 630,

Aufgabe 4: Punkt 1 = 1000, Punkt 2 = 310, Punkt 3 = 720, Punkt 4 = 770,