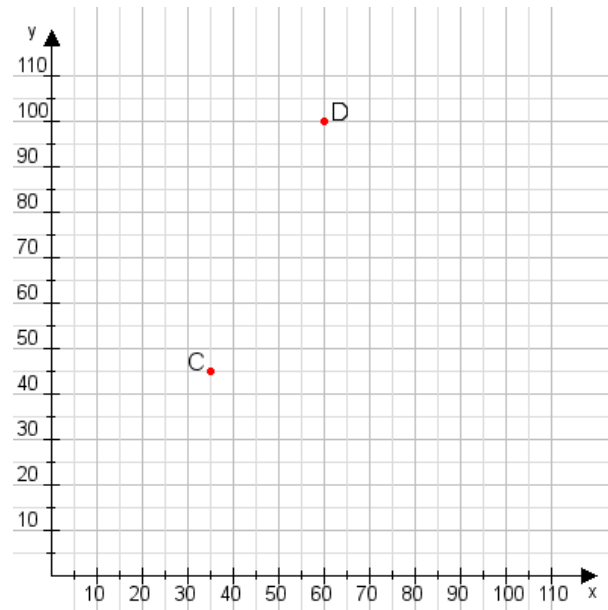


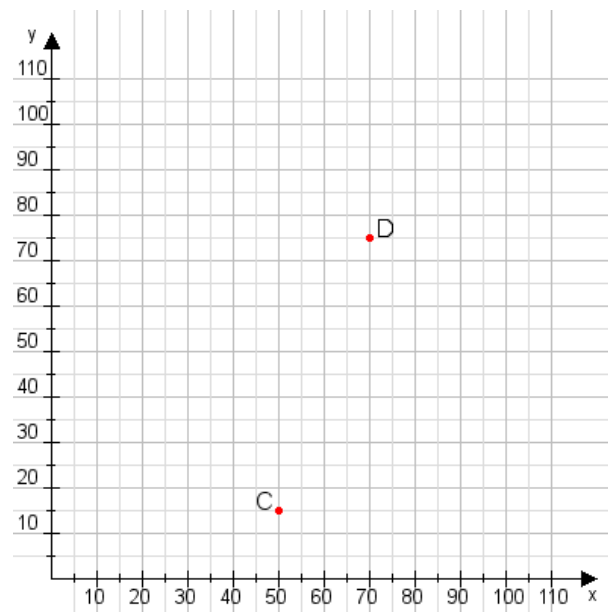
Aufgabe 1:

Zeichne den Punkt A(50|10) und den Punkt B(80|75) in das Koordinatensystem ein und verbinde beide Punkte miteinander. Verbinde die Eingetragenen Punkte C, D und ermittle deren Koordinaten.



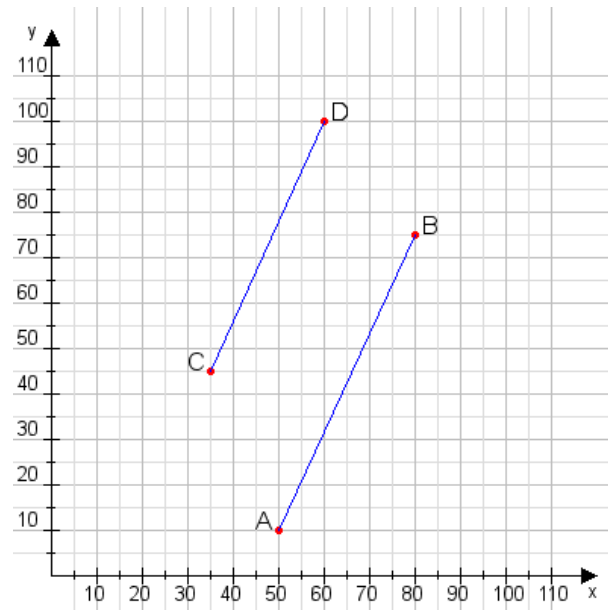
Aufgabe 2:

Zeichne den Punkt A(40|20) und den Punkt B(60|75) in das Koordinatensystem ein und verbinde beide Punkte miteinander. Verbinde die Eingetragenen Punkte C, D und ermittle deren Koordinaten.



Aufgabe 1:

C(35|45), D(60|100)



Aufgabe 2:

C(50|15), D(70|75)

