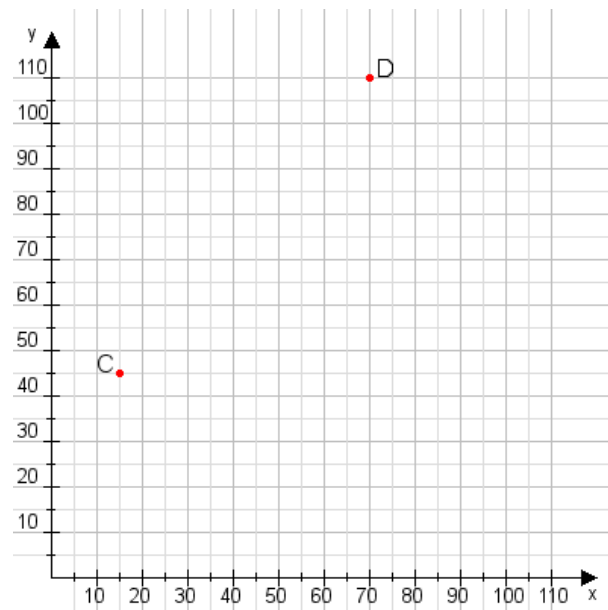


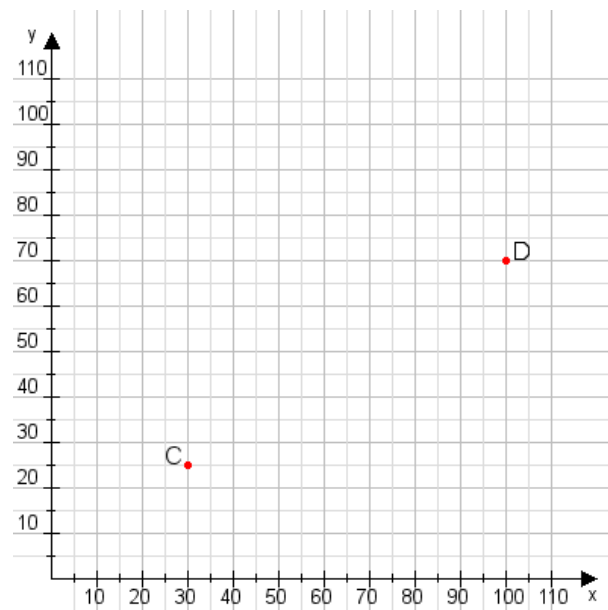
Aufgabe 1:

Zeichne den Punkt A(35|10) und den Punkt B(80|90) in das Koordinatensystem ein und verbinde beide Punkte miteinander. Verbinde die Eingetragenen Punkte C, D und ermittle deren Koordinaten.



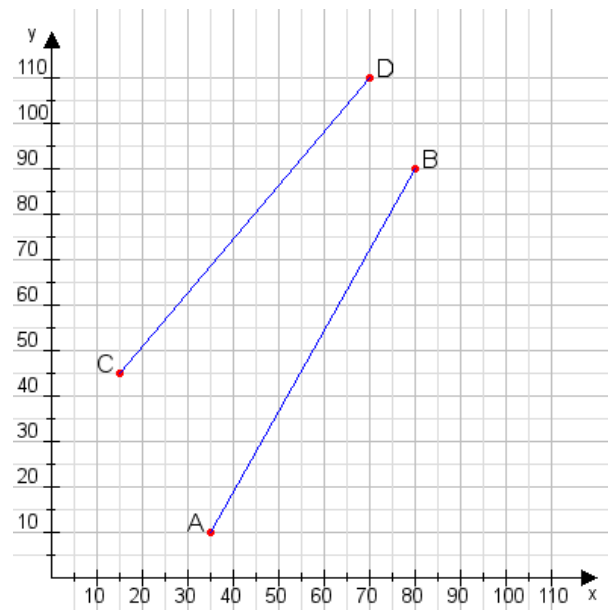
Aufgabe 2:

Zeichne den Punkt A(30|40) und den Punkt B(70|100) in das Koordinatensystem ein und verbinde beide Punkte miteinander. Verbinde die Eingetragenen Punkte C, D und ermittle deren Koordinaten.



Aufgabe 1:

C(15|45), D(70|110)



Aufgabe 2:

C(30|25), D(100|70)

