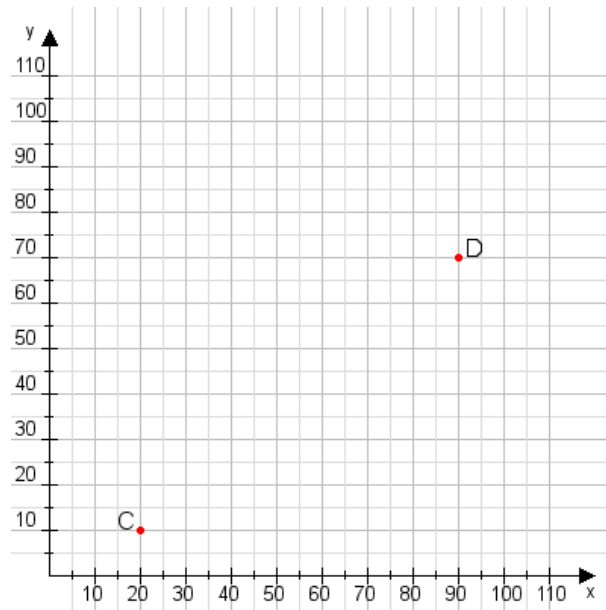


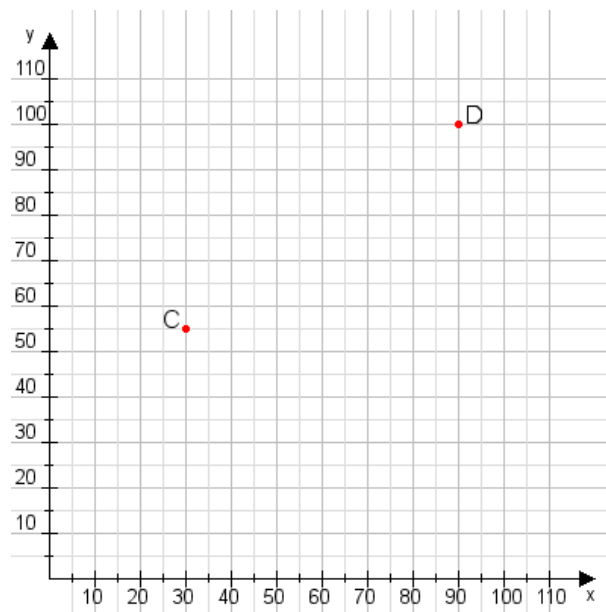
Aufgabe 1:

Zeichne den Punkt A(25|50) und den Punkt B(60|70) in das Koordinatensystem ein und verbinde beide Punkte miteinander. Verbinde die Eingetragenen Punkte C, D und ermittle deren Koordinaten.



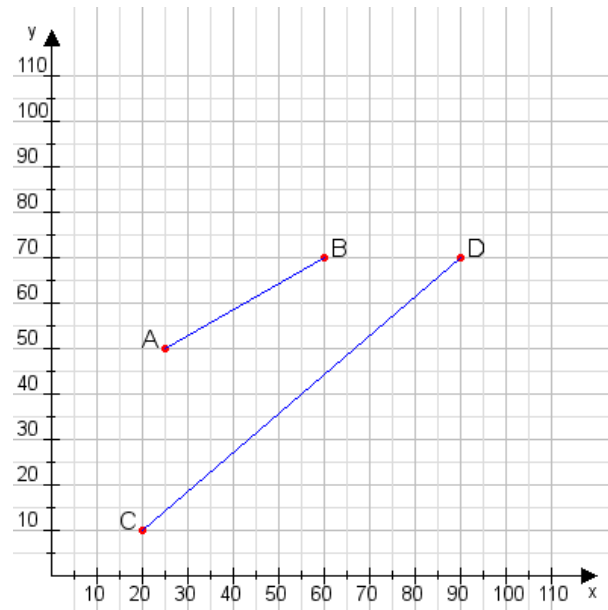
Aufgabe 2:

Zeichne den Punkt A(20|10) und den Punkt B(80|60) in das Koordinatensystem ein und verbinde beide Punkte miteinander. Verbinde die Eingetragenen Punkte C, D und ermittle deren Koordinaten.



Aufgabe 1:

C(20|10), D(90|70)



Aufgabe 2:

C(30|55), D(90|100)

