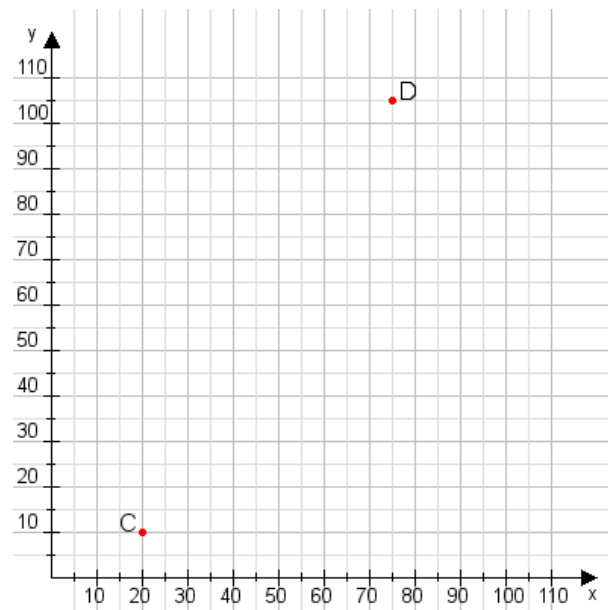


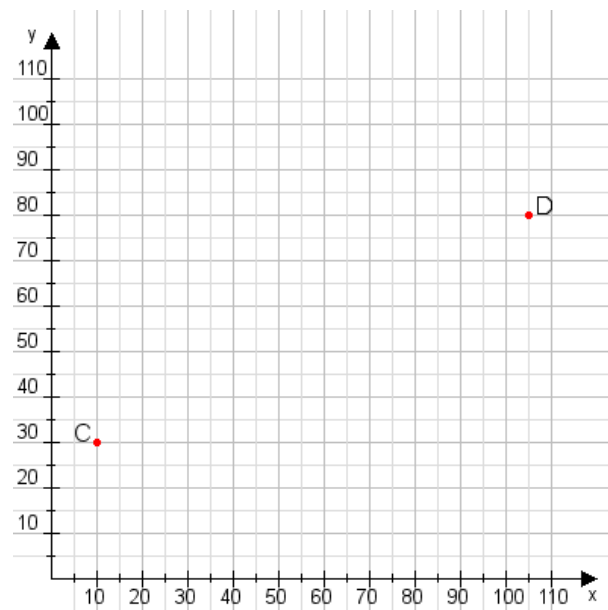
Aufgabe 1:

Zeichne den Punkt A(50|35) und den Punkt B(110|110) in das Koordinatensystem ein und verbinde beide Punkte miteinander. Verbinde die Eingetragenen Punkte C, D und ermittle deren Koordinaten.



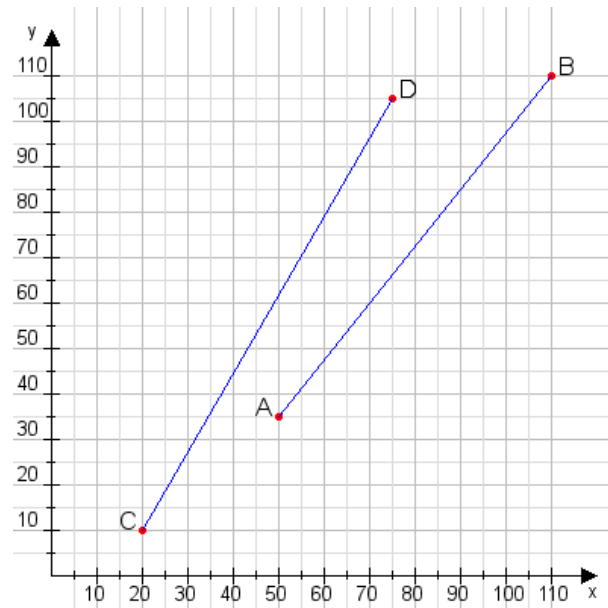
Aufgabe 2:

Zeichne den Punkt A(50|30) und den Punkt B(70|60) in das Koordinatensystem ein und verbinde beide Punkte miteinander. Verbinde die Eingetragenen Punkte C, D und ermittle deren Koordinaten.



Aufgabe 1:

C(20|10), D(75|105)



Aufgabe 2:

C(10|30), D(105|80)

