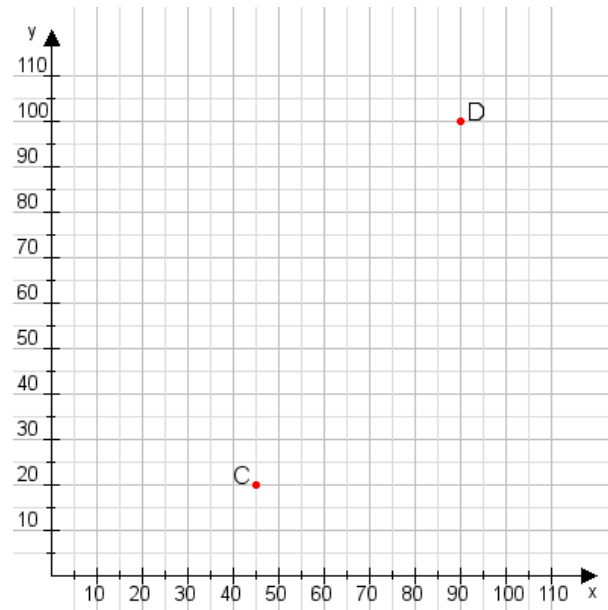


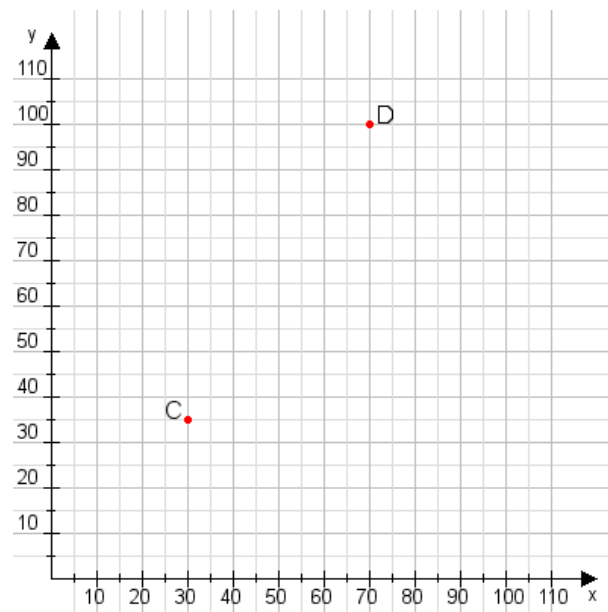
Aufgabe 1:

Zeichne den Punkt A(30|40) und den Punkt B(60|60) in das Koordinatensystem ein und verbinde beide Punkte miteinander. Verbinde die Eingetragenen Punkte C, D und ermittle deren Koordinaten.



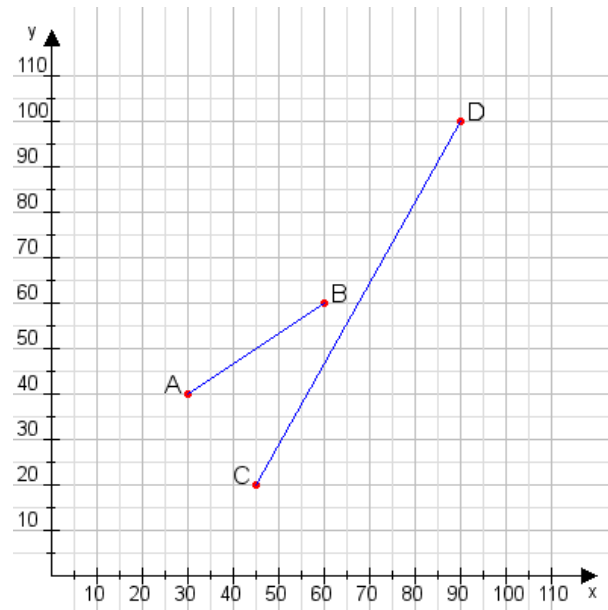
Aufgabe 2:

Zeichne den Punkt A(20|55) und den Punkt B(85|90) in das Koordinatensystem ein und verbinde beide Punkte miteinander. Verbinde die Eingetragenen Punkte C, D und ermittle deren Koordinaten.



Aufgabe 1:

C(45|20), D(90|100)



Aufgabe 2:

C(30|35), D(70|100)

