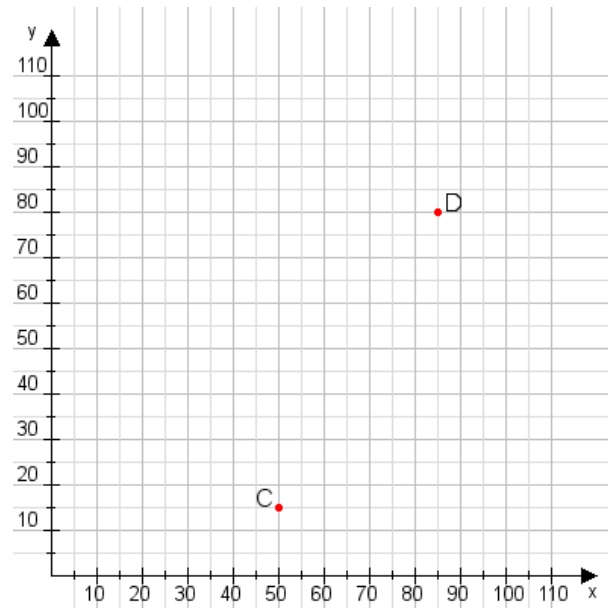


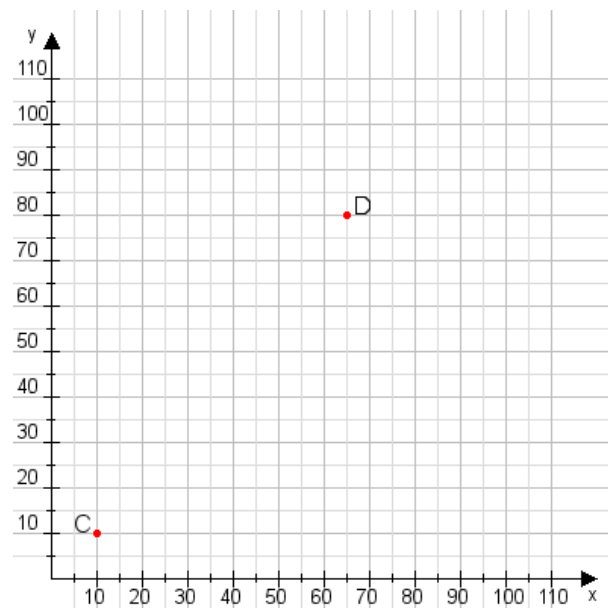
**Aufgabe 1:**

Zeichne den Punkt A(50|20) und den Punkt B(70|65) in das Koordinatensystem ein und verbinde beide Punkte miteinander. Verbinde die Eingetragenen Punkte C, D und ermittle deren Koordinaten.



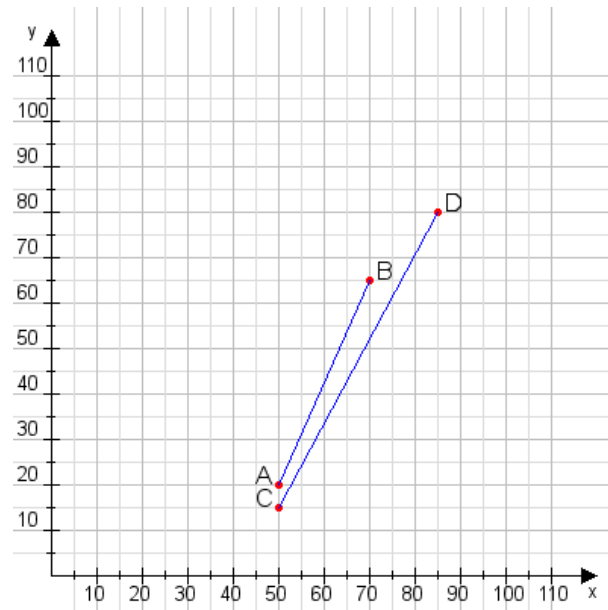
**Aufgabe 2:**

Zeichne den Punkt A(30|15) und den Punkt B(95|100) in das Koordinatensystem ein und verbinde beide Punkte miteinander. Verbinde die Eingetragenen Punkte C, D und ermittle deren Koordinaten.



**Aufgabe 1:**

C(50|15), D(85|80)



**Aufgabe 2:**

C(10|10), D(65|80)

