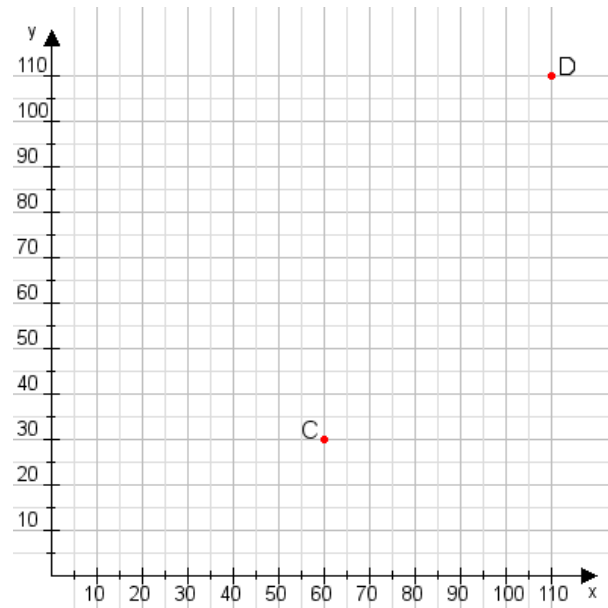


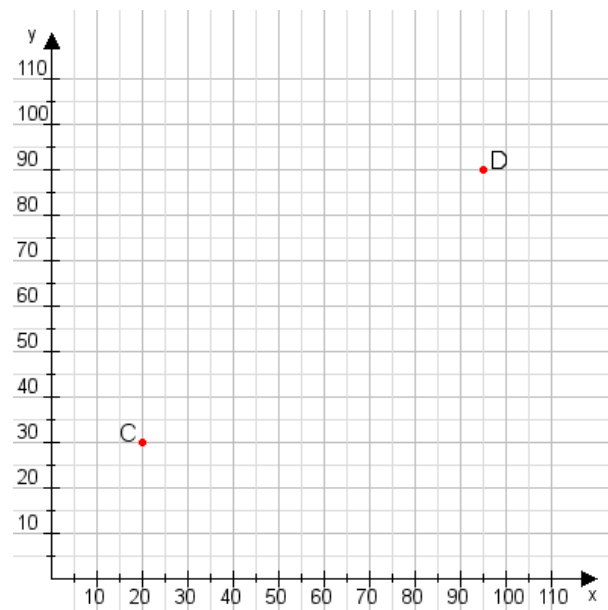
Aufgabe 1:

Zeichne den Punkt A(10|20) und den Punkt B(105|80) in das Koordinatensystem ein und verbinde beide Punkte miteinander. Verbinde die Eingetragenen Punkte C, D und ermittle deren Koordinaten.



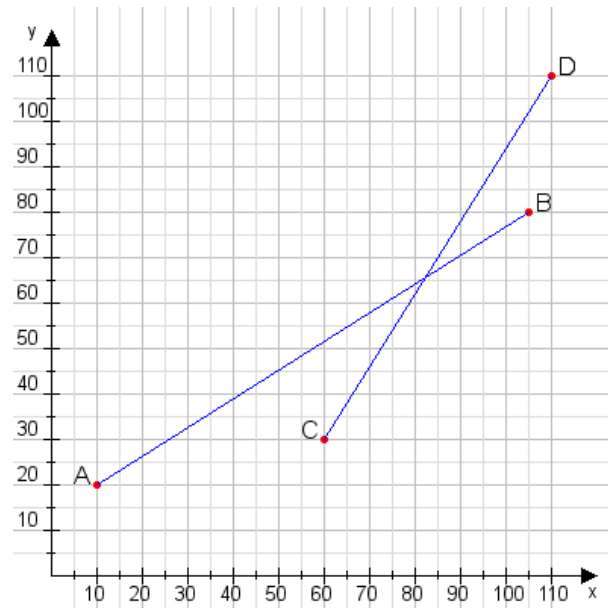
Aufgabe 2:

Zeichne den Punkt A(20|30) und den Punkt B(90|100) in das Koordinatensystem ein und verbinde beide Punkte miteinander. Verbinde die Eingetragenen Punkte C, D und ermittle deren Koordinaten.



Aufgabe 1:

C(60|30), D(110|110)



Aufgabe 2:

C(20|30), D(95|90)

