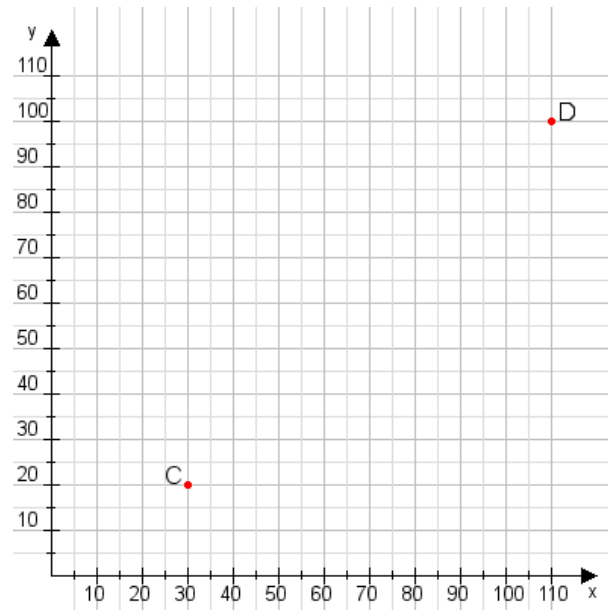


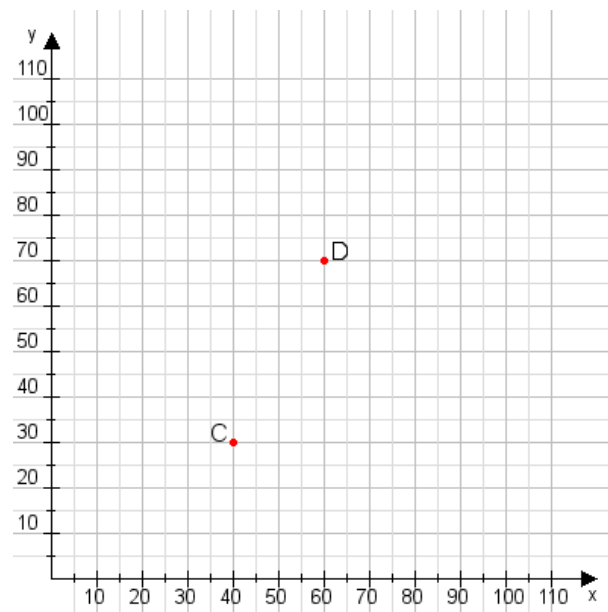
**Aufgabe 1:**

Zeichne den Punkt A(25|20) und den Punkt B(60|90) in das Koordinatensystem ein und verbinde beide Punkte miteinander. Verbinde die Eingetragenen Punkte C, D und ermittle deren Koordinaten.



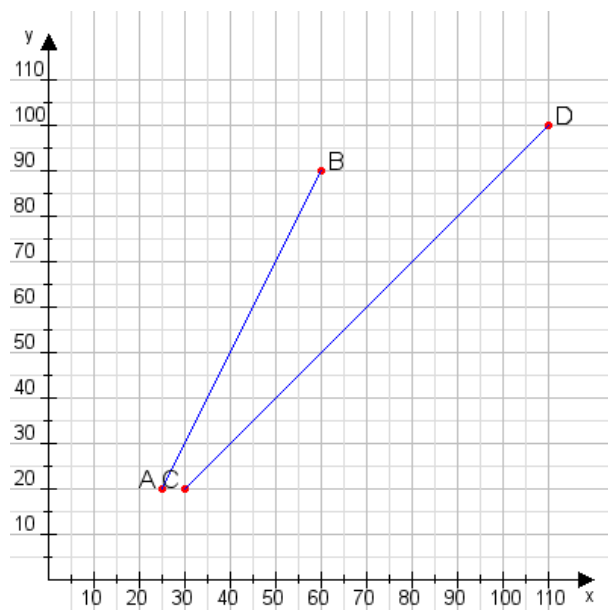
**Aufgabe 2:**

Zeichne den Punkt A(10|10) und den Punkt B(70|105) in das Koordinatensystem ein und verbinde beide Punkte miteinander. Verbinde die Eingetragenen Punkte C, D und ermittle deren Koordinaten.



**Aufgabe 1:**

C(30|20), D(110|100)



**Aufgabe 2:**

C(40|30), D(60|70)

